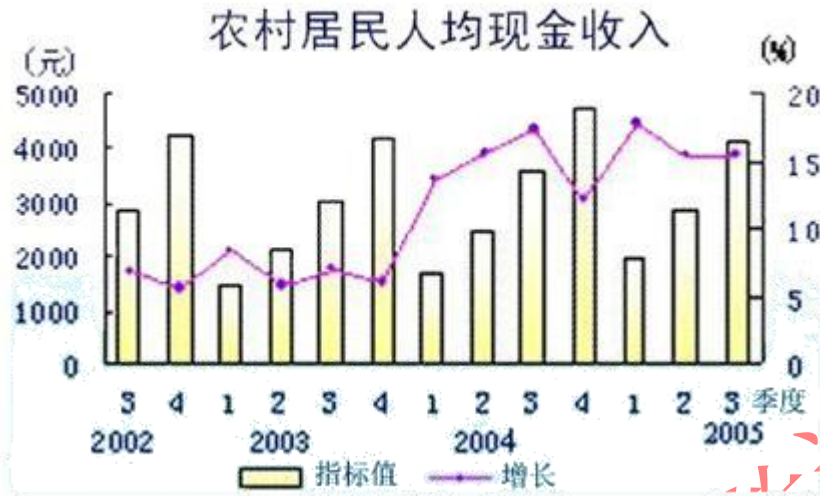


资料分析



2002—2005 年农村居民人均现金收入

106. 农村居民人均现金收入同比增长最快的是 ()。

- A. 2004 年 4 季度 B. 2005 年 1 季度 C. 2002 年 4 季度 D. 2003 年 4 季度

【答案】B

107. 图上现金收入最少时是 ()。

- A. 2003 年 2 季度 B. 2003 年 1 季度 C. 2004 年 1 季度 D. 2005 年 1 季度

【答案】B

108. 农村居民人均现金收入同比增长最低的是 ()。

- A. 2003 年 2 季度 B. 2004 年 4 季度 C. 2004 年 1 季度 D. 2005 年 1 季度

【答案】A

109. 2005 年第三季度，农村居民人均现金收入约为 () (元)。

- A. 4200 B. 2600 C. 6510 D. 3102

【答案】A

110. 2004 年四季度，农村居民人均现金收入增长 ()。

- A. 20% B. 15% C. 10% D. 13%

【答案】D

2005 第一季度全国民政系统社会捐赠情况		
(一) 直接接收捐赠	单位	数量
1.社会捐赠款数	万元	53594.5
2.捐赠衣被总数	万件	149
其中: 棉衣被	万件	34
3.其他捐赠物资价值	万元	783.4
(二) 间接接收捐赠		
1.其他部门转入的社会捐赠款数	万元	1440.6
2.其他部门转入的捐赠衣被总数	万件	16
其中: 棉衣被	万件	6
3.其他部门转入的其他捐赠物资价值	万元	140.9
(三) 受益人次数	人次	862365
(四) 社会捐赠接收站、点数	个	22983

111. 2005 年第一季度全国社会捐款总数为 () (万元)。

- A.53594.5 B.55035.1 C.65028.6 D.22983

【答案】B

112. 2005 年第一季度全国社会捐赠衣被总件数为 () (万件)。

- A.149 B.783 C.165 D.40

【答案】C

113. 2005 年第一季度全国社会捐赠 (除衣被外) 总价值为 () (万元)。

- A.53594.5 B.55035.1 C. 55959.4 D. 55969.4

【答案】C

114. 2005 年度第一季度全国民政系统直接接收的社会捐赠款为 (万元)

- A.22983 B.862365 C.783.4 D.53594.5

【答案】D

115. 下列说法正确的是 ()。

- A. 2005 年第一季度全国社会捐赠总额超过了去年同期
B. 2005 年第一季度全国民政系统直接接收的社会捐款总数同比增长迅速
C. 2005 年第一季度全国民政系统间接接收的社会捐款总数同比增长迅速
D. 2005 年第一季度社会捐赠中, 民政部门是主要捐赠接收单位

据中国汽车工业协会统计, 2004 年 1~7 月, 我国汽车累计产量突破 300 万辆, 达到 303. 05 万辆, 同比增长 23. 5%。累计销售 289 万辆, 同比增长 20. 6%, 产销率为 95. 6%。

其中, 轿车累计产销 144. 89 万辆和 133. 55 万辆, 同比分别增长 30. 2%和 27. 1%; 客车累计产销 73. 37 万辆和 70. 84 万辆, 同比分别增长 20. 9%和 10. 1%; 载货车累计产销 84. 78 万辆和 85. 40 万辆, 同比分别增长 15. 7%和 20. 4%。

与上年同期相比, 整体上汽车产销仍然保持了 20%以上的较快增长速度。前 7 个月汽车产量已接近 2000 年全年产量, 其中轿车产量更是比 2000 年全年轿车产量多出近 40 万辆。

116. 2003 年 1~7 月, 我国汽车产销率为 ()。

- A. 97. 51% B. 98. 97% C. 97. 66% D. 97. 97%

【答案】D

117. 2003 年 1~7 月, 我国轿车的产量是 () 万辆。

- A. 110. 65 B. 111. 28 C. 101. 13 D. 207. 59

【答案】C

118. 2000 年全年轿车产量是 () 万辆。

- A. 33. 37 B. 30. 84 C. 104. 89 D. 93. 55

【答案】B

119. 2004 年 1~7 月客车产量占汽车总产量的 ()。

- A. 47. 8% B. 29. 6% C. 23. 8% D. 24. 2%

【答案】C

120. 轿车销量是载货车销量的 ()。

- A. 1. 56 倍 B. 2. 05 倍 C. 1. 58 倍 D. 1. 71 倍

【答案】D

部分国家国际旅游人数统计表 单位：人

	国外游客到达人数			出国旅游人数		
	2000 年	2004 年	2005 年	2000 年	2004 年	2005 年
中国	3123	4176	4681	1047	2885	3103
日本	476	614	673	1782	1683	1740
韩国	532	582	602	551	883	1008
加拿大	1963	1910	1877	1918	1955	2110
美国	5124	4608	4921	6133	6181	6350
巴西	531	479	536	323	374	470
法国	7719	7512	7600	1989	2113	2227
德国	1898	2014	2150	7440	7230	7740
俄罗斯联邦	2117	2206	2220	1837	2415	2842
英国	2521	2776	2997	5684	6419	6649
澳大利亚	493	522	550	350	437	475

101. 表中 2005 年国外游客达到人数高于出国旅游人数的国家有 ()

- A. 2 个 B. 3 个 C. 4 个 D. 5 个

【答案】C

102. 2002—2005 年，以下四国中出国旅游人数平均增长速度最快的是 ()

- A. 韩国 B. 巴西 C. 俄罗斯联邦 D. 澳大利亚

A

103.2002—2005 年, 哪个国家出国旅游人数的发展速度超过了国外游客到达人数的发展速度? ()

- A. 英国 B. 德国 C. 日本 D. 中国

【答案】D

104.表中国家按所属大洲分类, 2004 年出国旅游人数均值最高的是 ()

- A. 亚洲国家 B. 美洲国家 C. 欧洲国家 D. 大洋洲国家

【答案】C

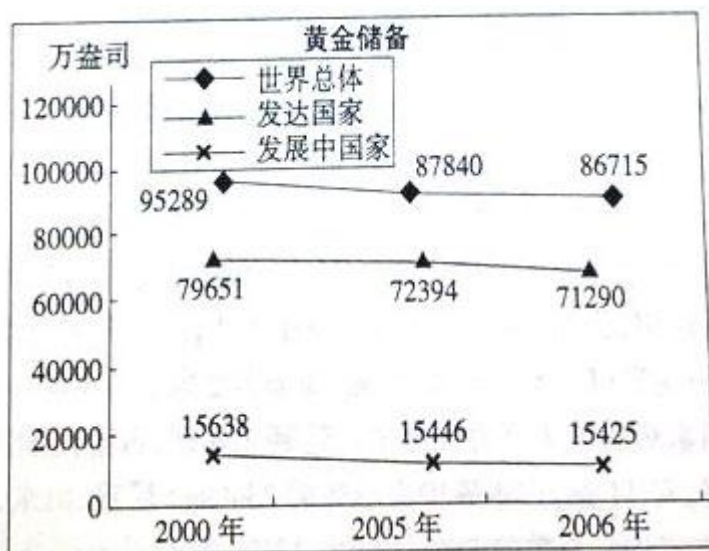
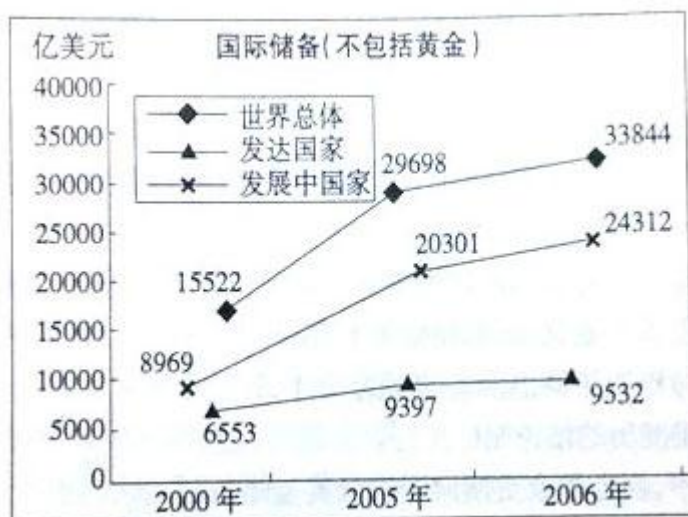
105.从资料中不能推出的结论是 ()

- A. 法国是表中所列国家中最受欢迎的国际旅游目的地
B. 2005 年美国国外游客到达人数的同比增长率小于巴西
C. 2000 年国外游客到达人数与出国旅游人数最接近的国家是加拿大
D. 按国外游客到达人数排序, 2000 年、2004 年、2005 年中国在 11 国中位次不变

【答案】C

二、根据以下资料, 回答 106~110 题。

2000 年、2005 年、2006 年发达国家、发展中国家和世界总体的国际储备 (不包括黄金) 和黄金储备变化情况, 如图所示:



部分国家国际储备和黄金储备的变化情况如下表所示:

	国际储备(不包括黄金, 亿美元)			黄金储备(万盎司)		
	2000年	2005年	2006年	2000年	2005年	2006年
中国	1682.8	8215.1	10684.9	1270.0	1929.0	1929.0
印度	379.0	1319.2	1707.4	1150.2	1150.2	1150.2
日本	3549.0	8342.8	8796.8	2454.7	2460.2	2460.2
韩国	961.3	2103.2	2388.8	43.9	45.8	41.8
美国	566.0	540.8	548.5	26161.1	26155.1	26149.9
法国	370.4	277.5	426.5	9724.5	9085.2	8744.3
德国	568.9	451.4	416.9	11151.9	11020.7	11003.7
英国	387.7	384.7	407.0	1567.4	999.3	997.5

106.2000年到2006年黄金储备量下降幅度超过11%的国家有多少个? ()

- A. 0 B. 1 C. 2 D. 3

【答案】B

107.2000 年到 2006 年印度国际储备量的平均增长速度低于 ()

- A. 发达国家 B. 世界总体 C. 发展中国家 D. 中国

【答案】D

108.假设黄金价格为 500 美元/盎司,那么表中各年黄金储备量均超过相应年份国际储备量的国家有多少个? ()

- A.0 B.1 C.2 D.3

【答案】C

109.与 2005 年相比,下面关于 2006 年储备量描述错误的是 ()

- A. 中国黄金储备量占世界总体的比重略有上升
B. 美国黄金储备量占世界总体的比重略有下降
C. 中国黄金储备量没有变化,国际储备量上升
D. 美国黄金储备量略有下降,国际储备量略有上升

【答案】B

110.从资料中不能推出的结论是 ()

- A. 上表所列国家中,西方国家更倾向于进行黄金储备
B. 与国际储备相比,表中多数国家黄金储备量相对稳定
C. 整体看来,多数发达国家的黄金储备量大大高于其国际储备量
D. 2000 年至 2006 年印度的国际储备量年平均增长速度快于韩国

【答案】C

三、根据下列文字材料回答问题。

2005 年在城镇投资中,国有及国有控股投资 40047 亿元,比上年增长 17.5%。第一产业投资 823 亿元,增长 27.5%;第二产业投资 31598 亿元,增长 38.4%。第三产业投资 42675 亿元,增长 20.0%。分行业看,煤炭开采及洗选业投资比上年增长 65.6%;电力、热力的生产与供应业投资增长 33.7%;石油和天然气开采业投资增长 29.7%;铁路运输业投资增长

45.7%；交通运输设备制造业投资增长 51.1%；纺织业投资增长 38.0%。教育投资增长 8.4%；卫生投资增长 28.9%。

2005 年全年研究与开发经费支出 2367 亿元，比上年增长 20.4%，占国内生产总值的 1.30%，其中基础研究经费 135 亿。2005 年末国有企事业单位共有各类专业技术人员 2720 万人，全年国家安排了 288 项科技攻关计划课题和 911 项“863”计划课题，新建国家工程研究中心 19 个。新安排国家重点实验室改造项目 16 项，累计达到 143 项，国家认定企业技术中心达到 361 家。全年共取得省部级以上科技成果 3.6 万项。全年受理国内外专利申请 47.6 万件，其中国内申请 383 万件，占 80.5%；受理国内外发明专利申请 17.3 万件，其中国内申请 9.3 万件，占 53.8%。全年共签订技术合同 26.5 万项，技术合同成交金额 1510 亿元，比上年增长 13.2%。

101、下列各行业，2005 年投资增长最大的是：

- A、纺织业 B、铁路运输业 C、电力、热力的生产与供应业 D、交通运输设备制造业

[答案]D

102、根据材料中的数据，2005 年第三产业投资占三大产业投资总额比重约为：

- A、40% B、50% C、60% D、70%

[答案]C

103、2005 年基础研究经费占全年研究与开发经费总额的：

- A、5.7% B、6.8% C、7.3% D、9.9%

[答案]A

104、2005 年受理国外发明专利申请：

- A、8 万件 B、9.3 万件 C、23.4 万件 D、38.3 万件

[答案]A

105、根据上述资料，以下说法正确的是：

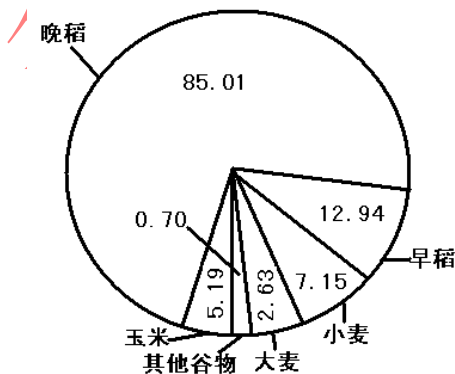
- A、2005 年所签订的技术合同每项平均成交额约为 57 万
B、2005 年，城镇投资增加的总额中大部分来自国有及国有控股投资
C、与上年相比，2005 年第二产业投资增加的总、额低于第三产业
D、2005 年全年受理的国内专利申请中，绝大部分为发明专利申请

[答案]A

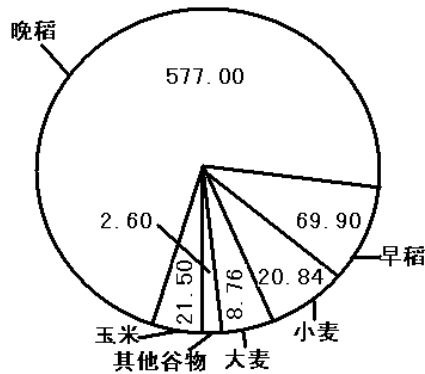
四、根据下列资料回答问题。

2003 年，浙江省谷物类粮食种植面积为 113.62 万公顷(注：1 公顷=15 亩)，比上年减少 22.79 万公顷；谷物类粮食的总产量达 700.60 万吨。比上年减少 141.68 万吨。

2003 年谷物类粮食种植面积结构图
单位：万公顷



2003 年谷物类粮食总产量结构图
单位：万吨



106、2003 年浙江省谷物类粮食的总产量约比上年减少

- A、16.82% B、20.22% C、23.27% D、25.35%

[答案]A

107、2003 年浙江省谷物类粮食的平均亩产量约是多少

A、411 公斤 B、424 公斤 C、432 公斤

[答案]D

108、以下粮食作物中，2 叨 3 年的亩产量最高的是：

A、早稻 B、晚稻 C、小麦

[答案]B

109、2003 年亩产量最低的谷物类粮食的种植面积是：

A、2.31% B、4.57% C、6.29%

[答案]C

110、以下关于 2 叨 3 年谷物类粮食的生产情况的说法

A、晚稻的产量大于谷物类粮食总产量的 4 巧

B、产量最接近的两种粮食作物的种植总面积约为 185

C、“其他谷物”的种植面积和产量都是最小的

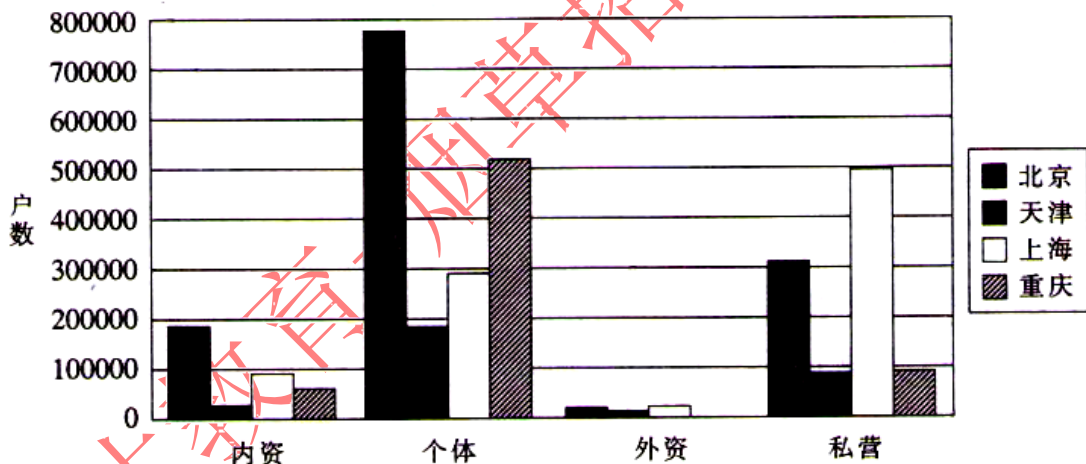
D、大麦的亩产量不足 210 公斤

[答案]D

08 吉林乙

根据下图回答第 81-85 题：

四直辖市市场主体登记数据对比图(截至 2007 年上半年)



81·截至 2007 年上半年末，四直辖市市场主体登记数据中市场主体户数最少的是：

A 内资企业 B 个体企业 C 外资企业 D 私营企业

[答案]C

82·截至 2007 年上半年末，在所登记的私营企业中上海的私营企业户数比重庆的私营企业户数大约多：

A · 300000 户 B · 400000 户 C · 500000 户 D · 600000 户

[答案]B

83·从上图可知，个体企业户数最多的直辖市是：

A · 北京市 B · 天津市 C · 上海市 D · 重庆市

[答案]A

84·截至 2007 年上半年末，在所登记的内资企业中户数最少的直辖市是：

A · 北京市 B · 天津市 C · 上海市 D · 重庆市

[答案]B

85·截至2007年上半年末,在所登记的个体企业中户数排在第二位的直辖市是:

A·北京市 B·天津市 C·上海市 D·重庆市

[答案]D

根据下表回答问题 86-90 题:

2005年我国各地区制造业质量竞争力指数情况		
序号	地区	质量竞争力指数
1	江苏	84.94
2	福建	84.39
3	上海	84.34
4	广东	83.82
5	北京	83.8
6	重庆	83.79
7	天津	83.76
8	浙江	82.86
9	辽宁	82.8
10	山东	80.86
11	四川	80.81
12	吉林	79.49
13	贵州	79.4
14	湖南	79.4
15	安徽	79.28
16	陕西	79.12
17	湖北	79.02
18	河北	78.28
19	江西	78.26
20	黑龙江	77.54
21	河南	76.79
22	山西	76.29
23	甘肃	75.57
24	广西	74.82
25	海南	74.61
26	内蒙古	74.36
27	青海	73.46
28	宁夏	72.71
29	云南	72.33
30	新疆	71.74
31	西藏	68.3

86·排在第一位的江苏省制造业的质量竞争力指数领先西藏:

A·16.64

B·17.51

C·16.19

D·17.19

[答案]A

87·地区质量竞争力指数处在较高水平(80 以?)的省份是:

A·8 个

B·9 个

C·10 个

D·11 个

[答案]D

88·制造业的质量竞争力指数排在第二十位的省份是:

A·黑龙江

B·河北

C·江西

D·河南

[答案]A

89·东北三省中,制造业的质量竞争力最强的是:
A·黑龙江 B·吉林 C·辽宁 D·三个省份没有差别

[答案]C

90·下列表述中正确的是:
A·制造业质量竞争力较强的地区大部分是西部地区
B·制造业质量竞争力指数超过80分的地区中,西部地区有两个
C·制造业质量竞争力指数与地区经济发展状况无关
D·西部地区中制造业质量竞争力指数最高的是四川

[答案]B

根据下面资料回答91-95题:

2005年底,全国城镇房屋建筑面积164·51亿平方米,其中住宅建筑面积107.69亿平方米,占房屋建筑面积的比重为65.46%。东部地区房屋建筑面积83·8亿平方米,中部地区45.22亿平方米,西部地区35.48亿平方米,分别占全国城镇房屋建筑面积的50.94%、27.49%和21.57%。东部地区城镇住宅建筑面积53.67亿平方米,中部地区30.33亿平方米,西部地区23.69亿平方米,分别占全国城镇住宅建筑面积的49.84%、28.16%和22%。

2005年全国城镇人均住宅建筑面积26.11平方米,其中东部地区28平方米,中部地区23·9平方米,西部地区25.24平方米。

全国城镇户均住宅建筑面积83.2平方米,户均成套住宅套数0.85套。东部地区户均住宅建筑面积85.32平方米,中部地区77.96平方米,西部地区85.75平方米,户均成套住宅套数分别为0.89套、0.79套和0.83套。

2005年各地区城镇人均住宅建筑面积情况

(单位:平方米)

东部地区	28	中部地区	23.9	西部地区	25.24
北京	32.86	山西	24.79	内蒙古	22.96
天津	24.97	吉林	22.46	广西	25.23
河北	26.04	黑龙江	22.03	重庆	30.68
辽宁	21.96	安徽	22.56	四川	27.48
上海	33.07	江西	25.58	贵州	20.4
江苏	27.95	河南	23.4	云南	28.59
浙江	34.8	湖北	24.99	西藏	20.86
福建	32.28	湖南	26	陕西	23.4
山东	26.47			甘肃	23.28
广东	26.46			青海	22
海南	24.18			宁夏	23.9
				新疆	22.22

91·2005年底,全国城镇房屋建筑面积中非住宅建筑面积为:

A·58.62亿平方米 B·56.82亿平方米
C·52.86亿平方米 D·53.86亿平方米

[答案]B

92·2005年底,东部地区房屋建筑面积高于西部地区:

A·48.32亿平方米 B·43.82亿平方米
C·42.83亿平方米 D·52.83亿平方米

[答案]A

93·2005年在全国31个省市自治区中,城镇人均住宅建筑面积最大的是:

- A·北京市 B·上海市 C·福建省 D·浙江省

[答案]D

94.2005年在全国31个省市自治区中,高于全国城镇人均住宅建筑面积的省市自治区有:

- A·8个 B·9个 C·10个 D·11个

[答案]C


95·下列说法不正确的是:

- A·2005年底,全国城镇住宅建筑面积占房屋建筑面积达到五成
B·东部地区城镇人均住宅建筑面积高于中部和西部地区
C·全国城镇户均成套住宅套数不足一套
D·辽宁省城镇人均住宅建筑面积多于贵州省1.56平方米

[答案]A

根据下图回答96-100题:

2006年最受用户关注的十大消费类数码相机品牌



96·2006年最受关注的品牌是:

- A·卡西欧 B·三星 C·索尼 D·佳能

[答案]D

97·2006年最受关注的两大品牌合计占所有品牌的比重为:

- A.19.0% B.47.9% C.28.9% D.50.8%

[答案]B

98·根据上图,消费者关注的十大品牌合计占所有品牌的比重为:

- A.97.4% B.95.9% C.67.8% D.56.9%

[答案]B

99·下列说法正确的是:

- A·2006年富士和松下两个品牌合计受关注程度要高于索尼品牌
B·2006年理光和卡西欧两个品牌合计受关注程度要高于三星品牌
C·2006年尼康和柯达两个品牌合计受关注程度要高于索尼品牌
D·以上选项都不正确

[答案]D

100·下列说法正确的是:

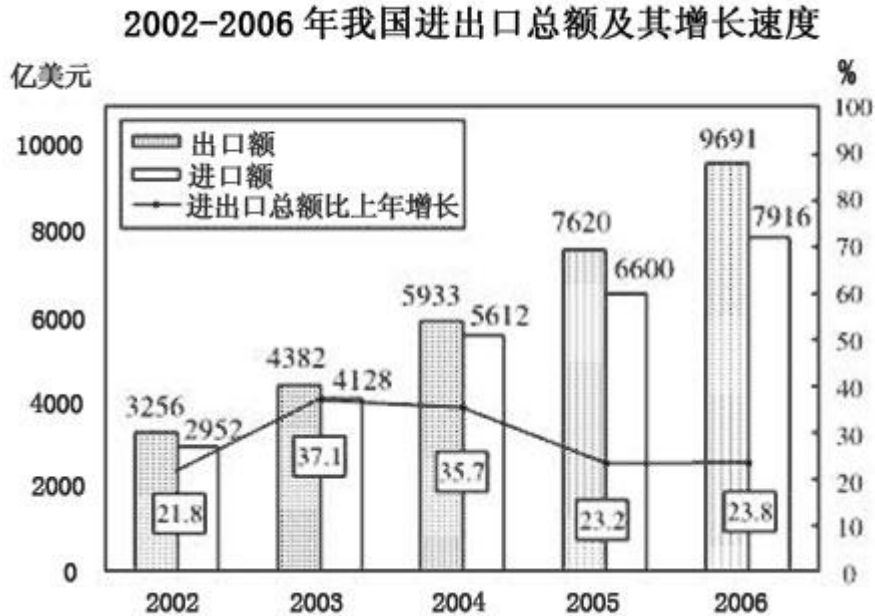
- A·2006年索尼和三星两个品牌的受关注程度要高于佳能品牌
B·2006年三星和柯达合计占所有品牌比重为16.6%
C·2006年富士和奥林巴斯合计占所有品牌的比重为12.6%

D·2006年理光和卡西欧合计占有所有品牌的比重为10.2%

[答案]B

08上半年

一、根据下列统计资料回答问题。



116.2002~2006年,我国的贸易顺差额(出口额-进口额)最小的年份是()。

A.2002年 B.2003年 C.2004年 D.2006年

【答案】B

117.2006年,我国的出口额约比上年增长()。

A.27.2% B.23.8% C.23.2% D.19.9%

【答案】A

118.2003~2006年的进口额年增长率超过25%的年份有()。

A.1个 B.2个 C.3个 D.4个

【答案】B

119.与上年相比,进出口总额的增长率最高的年份的进出口总额为()。

A.17607亿美元 B.14220亿美元

C.8510亿美元 D.5208亿美元

【答案】C

120.下列说法中,不正确的是()。

A.2003~2006年,我国出口额与上年相比的增长量都超过1000亿美元

B.2003~2006年,我国的进出口总额呈逐年上涨状态

C.2004年至2006年,我国贸易顺差呈逐年上升趋势

D.2001年,我国的出口额约为2673亿美元

【答案】D

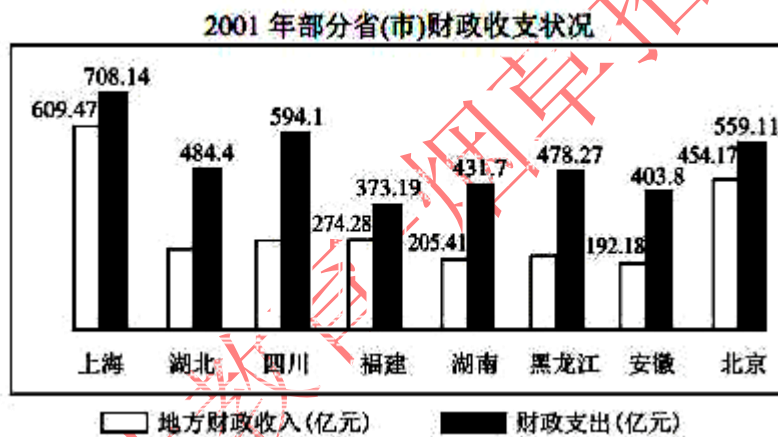
二、根据下列统计资料回答问题。

表一 2001年部分省(市)国民经济主要指标及在全国的位次

省份	GDP(亿元)		年末总人口(万人)		城镇居民人均可支配收入(元)		农民人均纯收入(元)	
	绝对值	位次	绝对值	位次	绝对值	位次	绝对值	位次
上海	4951	8	1614	25	12883	1	5871	1
湖北	4662	9	5975	9	5856	17	2352	11
四川	4422	10	8640	3	6360	15	1987	19
福建	4254	11	3440	18	8313	6	3381	7
湖南	3983	12	6596	7	6781	11	2299	12
黑龙江	3561	13	3811	15	5426	27	2280	13
安徽	1290	14	6328	8	5669	21	2020	18
北京	2846	15	1383	26	11578	2	5026	2

表二 2002年部分省(市)GDP比2001年增长情况(%)

省份	上海	湖北	四川	福建	湖南	黑龙江	安徽	北京
增长率	10.9	9.1	10.6	10.5	9.0	10.3	8.9	10.2



121.2002年GDP绝对值比较中,下列排名正确的是()。

- A.上海>四川>福建>湖北 B.上海>湖北>四川>福建
 C.上海>四川>湖北>福建 D.四川>上海>福建>湖北

【答案】B

122.根据各省(市)年末总人口推算,在2001年人均GDP比较中,下列正确的是()。

- A.湖北>四川>福建>湖南 B.湖北>福建>湖南>四川
 C.福建>湖北>湖南>四川 D.福建>湖北>四川>湖南

【答案】C

123.下列省(市)城镇居民可支配性收入与农村居民纯收入差距最大的是()。

- A.上海 B.北京 C.福建 D.湖南

【答案】A

124.假设各省市农村人口比例相同,则2001年农民总收入最高的省市是()。

- A.四川 B.湖南 C.北京 D.上海

【答案】A

125.从统计图中可以看出,2001年北京、上海、福建三省市地方财政收入与财政支出差距十分接近,但从地方财政收入占GDP的比重看()。

- A.北京>上海>福建 B.上海>北京>福建
C.北京>福建>上海 D.上海>福建>北京

【答案】A

三、根据下列材料回答问题

2007年6月我国内地入境旅游人数统计表

地区	合计(人)	同比月增长(%)	入境方式(人)				
			船舶	飞机	火车	汽车	徒步
合计	10666830	6.47	476486	1564539	129764	2857742	5638299
香港同胞	6218007	6.81	162239	134333	60698	2420066	3440401
澳门同胞	1881769	-6.45	5279	4215	173	97080	1775022
台湾同胞	392425	8.26	71053	183012	2426	51034	84900
外国游客	2174629	19.29	237915	1242979	66197	289562	337976
亚洲	1351623	22.03	133804	823937	23904	111025	258953
美洲	239906	9.26	13116	171606	6473	19936	28775
欧洲	496024	17.11	86173	196045	31560	151333	30913
大洋洲	57018	15.42	3990	32744	1948	5051	13285
非洲	29825	31.49	819	18589	2304	2161	5952
其他国家	233	13.11	13	58	8	56	98

126.下列选项中,正确的一项是()。

- A.在国外游客中,2007年6月非洲国家到我国旅游的人数增长最多
B.以目前的增长速度,非洲国家的游客人数有望在年内超过来自大洋洲的游客人数
C.相对于外国游客,港澳台游客更喜欢徒步游的方式
D.飞机是外国游客来我国游览的必选方式

【答案】B

127.2007年5月入境游客中,港澳台入境游客与外国游客人数的比值约为()。

- A.4.5 B.3.9 C.0.26 D.0.22

【答案】A

128.2007年5月欧洲入境人数占总体入境旅客的比率是()。

- A.18.19% B.17.11% C.4.7% D.4.2%

【答案】D

129.2007年6月选择徒步入境的人数约占入境总人数的()。

- A.23% B.33% C.43% D.53%

【答案】D

130.同比月增长率大于10%的地区2007年6月入境总人数是()。

- A.1836947 B.1934490 C.1934723 D.4109352

【答案】C

四、根据下列统计资料回答问题。

2007年前三季度,A市工业生产保持稳步增长的良好态势。全市规模以上工业企业(下同)实现工业增长值3806.37亿元,比去年同期增长12.7%。其中,轻工业增加值1088.25亿元,增长9%;重工业增加值2718.12亿元,增长14.2%。完成工业总产值15777.56亿元,比去年同期增长16.2%。其中,轻工业完成3550.44亿元,增长9.7%;重工业完成12227.12

亿元，增长 18.2%。

六个重点发展工业行业是本市工业增长的主要拉动力，前三季度共完成工业总产值 10282.8 亿元，比去年同期增长 19.3%。其中电子信息产品制造业和汽车制造业增速较快，共拉动全市工业增长了 8.5 个百分点。

前三季度，该市完成工业出口交货值 5055.65 亿元，比去年同期增长 20.9%。今年以前，工业出口交货值增幅波动较大。1 月份因去年基数较低，故增幅较高，为 26.3%；2 月份受春节影响，增幅出现较大滑落，仅为 9.5%；3~5 月增幅均低于 20%；自 6 月份开始，全市工业出口交货值增速大幅回升，且连续几个月基本稳定在 25% 左右。

前三季度，电子信息产品，共生产笔记本电脑 2526.69 万部，比去年同期增长 76.4%；显示器 81.89 万台，增长 69.5%；移动通信基站设备 192.84 万信道，增长 59.4%；程控交换机 294.15 万线，下降 29.5%。

成套设备产品，生产交流电动机 926.70 万千瓦，比去年同期增长 23.9%；金属切削机床 1.12 万台，增长 5.4%；升降移动机械 3.57 万台，增长 7.9%。

石油化工产品，原油加工量为 1817.98 万吨，比去年同期下降 3.5%；生产乙烯 138.42 万吨，下降 4.1%；橡胶轮胎外胎 743.78 万条，下降 7.9%。

钢材产品，生产成品钢材 1633.95 万吨，比去年同期增长 14.2%；生铁 1335.64 万吨，增长 6.3%；生钢 1552.59 万吨，增长 7.5%。

131.2006 年前三季度，该市完成工业总产值约为()。

- A.3377 亿元 B.3311 亿元 C.13578 亿元 D.13221 亿元

【答案】C

132.2007 年前三季度，电子信息产品制造业和汽车制造业较去年同期增长()。

- A.2603.6 亿元 B.1154.1 亿元 C.1137.8 亿元 D.141.40 亿元

【答案】B

133.2007 年前三季度，六个重点发展工业行业拉动全市工业增长() 百分点。

- A.12.3 B.14.2 C.65.2 D.无法计算

【答案】A

134.由以上材料可知()。

- A.该市工业行业发展平衡，各行业对全市工业产值增加的贡献率相同
B.各类主要工业产品产量有升有降
C.工业出口交货值涨幅稳中有升
D.电子信息产品与汽车制造业的产值占该市工业总产值的一半以上

【答案】B

135.该市 2006 年前三个季度，全市规模以上工业企业实现的增加值中重工业所占的比例为()。

- A.28.59% B.29.56% C.70.5% D.71.4%

【答案】C