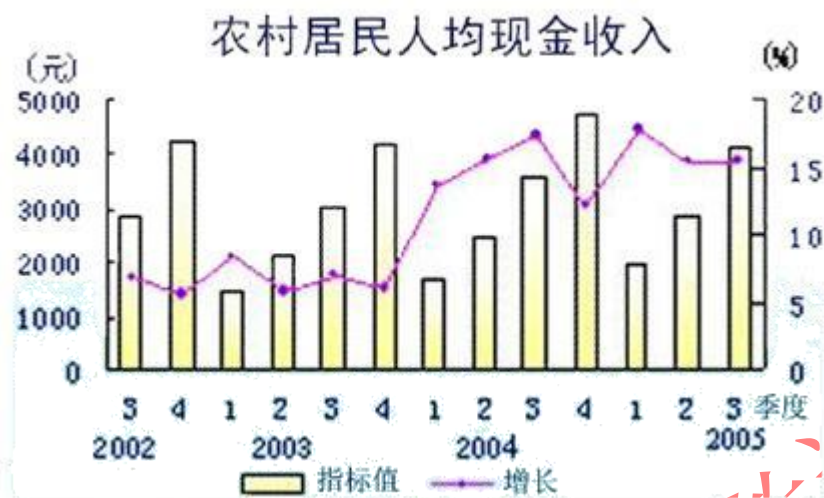


### 资料分析



2002—2005年农村居民人均现金收入

106. 农村居民人均现金收入同比增长最快的是 ( )。

- A. 2004年4季度    B. 2005年1季度    C. 2002年4季度    D. 2003年4季度

【答案】B

107. 图上现金收入最少时是 ( )。

- A. 2003年2季度    B. 2003年1季度    C. 2004年1季度    D. 2005年1季度

【答案】B

108. 农村居民人均现金收入同比增长最低的是 ( )。

- A. 2003年2季度    B. 2004年4季度    C. 2004年1季度    D. 2005年1季度

【答案】A

109. 2005年第三季度，农村居民人均现金收入约为 ( ) (元)。

- A. 4200    B. 2600    C. 6510    D. 3102

【答案】A

110. 2004年四季度，农村居民人均现金收入增长 ( )。

- A. 20%    B. 15%    C. 10%    D. 13%

【答案】D

2005 第一季度全国民政系统社会捐赠情况		
(一) 直接接收捐赠	单位	数量
1.社会捐赠款数	万元	53594.5
2.捐赠衣被总数	万件	149
其中: 棉衣被	万件	34
3.其他捐赠物资价值	万元	783.4
(二) 间接接收捐赠		
1.其他部门转入的社会捐赠款数	万元	1440.6
2.其他部门转入的捐赠衣被总数	万件	16
其中: 棉衣被	万件	6
3.其他部门转入的其他捐赠物资价值	万元	140.9
(三) 受益人次	人次	862365
(四) 社会捐赠接收站、点数	个	22983

111. 2005 年第一季度全国社会捐款总数为 ( ) (万元)。

- A.53594.5    B.55035.1    C.65028.6    D.22983

【答案】B

112. 2005 年第一季度全国社会捐赠衣被总件数为 ( ) (万件)。

- A.149    B.783    C.165    D.40

【答案】C

113. 2005 年第一季度全国社会捐赠 (除衣被外) 总价值为 ( ) (万元)。

- A.53594.5    B.55035.1    C. 55959.4    D. 55969.4

【答案】C

114. 2005 年度第一季度全国民政系统直接接收的社会捐赠款为 (万元)

- A.22983      B.862365      C.783.4      D.53594.5

【答案】D

115. 下列说法正确的是 ( )。

- A. 2005 年第一季度全国社会捐赠总额超过了去年同期  
B. 2005 年第一季度全国民政系统直接接收的社会捐款总数同比增长迅速  
C. 2005 年第一季度全国民政系统间接接收的社会捐款总数同比增长迅速  
D. 2005 年第一季度社会捐赠中, 民政部门是主要捐赠接收单位

据中国汽车工业协会统计, 2004 年 1~7 月, 我国汽车累计产量突破 300 万辆, 达到 303. 05 万辆, 同比增长 23. 5%。累计销售 289 万辆, 同比增长 20. 6%, 产销率为 95. 6%。

其中, 轿车累计产销 144. 89 万辆和 133. 55 万辆, 同比分别增长 30. 2%和 27. 1%; 客车累计产销 73. 37 万辆和 70. 84 万辆, 同比分别增长 20. 9%和 10. 1%; 载货车累计产销 84. 78 万辆和 85. 40 万辆, 同比分别增长 15. 7%和 20. 4%。

与上年同期相比, 整体上汽车产销仍然保持了 20%以上的较快增长速度。前 7 个月汽车产量已接近 2000 年全年产量, 其中轿车产量更是比 2000 年全年轿车产量多出近 40 万辆。

116. 2003 年 1~7 月, 我国汽车产销率为 ( )。

- A. 97. 51%      B. 98. 97%      C. 97. 66%      D. 97. 97%

【答案】D

117. 2003 年 1~7 月, 我国轿车的产量是 ( ) 万辆。

- A. 110. 65      B. 111. 28      C. 101. 13      D. 207. 59

【答案】C

118. 2000 年全年轿车产量是 ( ) 万辆。

- A. 33. 37      B. 30. 84      C. 104. 89      D. 93. 55

【答案】B

119. 2004 年 1~7 月客车产量占汽车总产量的 ( )。

- A. 47. 8%      B. 29. 6%      C. 23. 8%      D. 24. 2%

【答案】C

120. 轿车销量是载货车销量的 ( )。

- A. 1. 56 倍      B. 2. 05 倍      C. 1. 58 倍      D. 1. 71 倍

【答案】D

部分国家国际旅游人数统计表 单位：人

	国外游客到达人数			出国旅游人数		
	2000 年	2004 年	2005 年	2000 年	2004 年	2005 年
中国	3123	4176	4681	1047	2885	3103
日本	476	614	673	1782	1683	1740
韩国	532	582	602	551	883	1008
加拿大	1963	1910	1877	1918	1955	2110
美国	5124	4608	4921	6133	6181	6350
巴西	531	479	536	323	374	470
法国	7719	7512	7600	1989	2113	2227
德国	1898	2014	2150	7440	7230	7740
俄罗斯联邦	2117	2206	2220	1837	2415	2842
英国	2521	2776	2997	5684	6419	6649
澳大利亚	493	522	550	350	437	475

101. 表中 2005 年国外游客达到人数高于出国旅游人数的国家有 ( )

- A. 2 个 B. 3 个 C. 4 个 D. 5 个

【答案】C

102. 2002—2005 年，以下四国中出国旅游人数平均增长速度最快的是 ( )

- A. 韩国      B. 巴西      C. 俄罗斯联邦      D. 澳大利亚

A

103.2002—2005 年，哪个国家出国旅游人数的发展速度超过了国外游客到达人数的发展速度？（ ）

- A. 英国 B. 德国 C. 日本 D. 中国

【答案】D

104.表中国家按所属大洲分类，2004 年出国旅游人数均值最高的是（ ）

- A. 亚洲国家 B. 美洲国家 C. 欧洲国家 D. 大洋洲国家

【答案】C

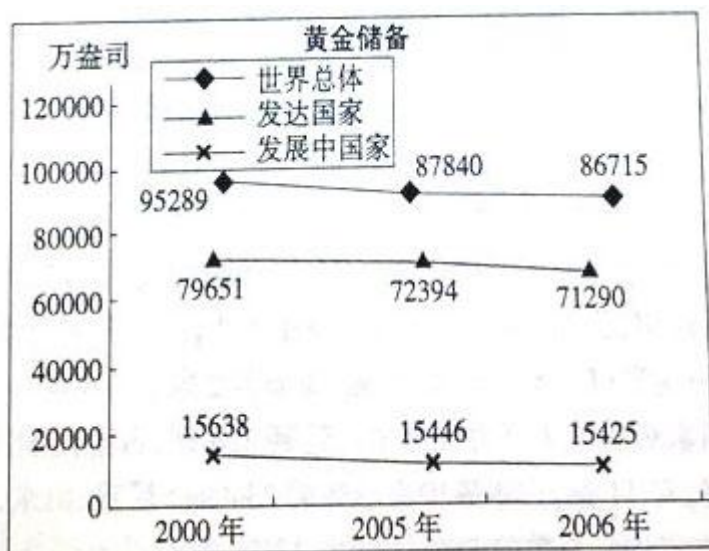
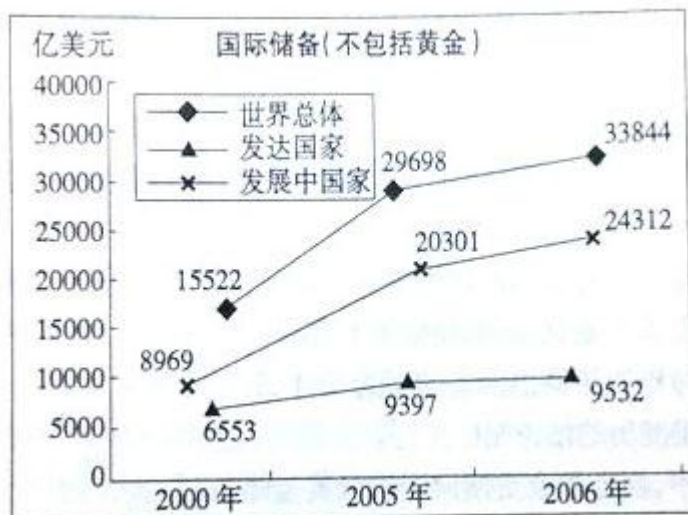
105.从资料中不能推出的结论是（ ）

- A. 法国是表中所列国家中最受欢迎的国际旅游目的地  
B. 2005 年美国国外游客到达人数的同比增长率小于巴西  
C. 2000 年国外游客到达人数与出国旅游人数最接近的国家是加拿大  
D. 按国外游客到达人数排序，2000 年、2004 年、2005 年中国在 11 国中位次不变

【答案】C

二、根据以下资料，回答 106~110 题。

2000 年、2005 年、2006 年发达国家、发展中国家和世界总体的国际储备（不包括黄金）和黄金储备变化情况，如图所示：



部分国家国际储备和黄金储备的变化情况如下表所示:

	国际储备(不包括黄金, 亿美元)			黄金储备(万盎司)		
	2000年	2005年	2006年	2000年	2005年	2006年
中国	1682.8	8215.1	10684.9	1270.0	1929.0	1929.0
印度	379.0	1319.2	1707.4	1150.2	1150.2	1150.2
日本	3549.0	8342.8	8796.8	2454.7	2460.2	2460.2
韩国	961.3	2103.2	2388.8	43.9	45.8	41.8
美国	566.0	540.8	548.5	26161.1	26155.1	26149.9
法国	370.4	277.5	426.5	9724.5	9085.2	8744.3
德国	568.9	451.4	416.9	11151.9	11020.7	11003.7
英国	387.7	384.7	407.0	1567.4	999.3	997.5

106.2000年到2006年黄金储备量下降幅度超过11%的国家有多少个? ( )

- A. 0    B. 1    C. 2    D. 3

【答案】B

107.2000 年到 2006 年印度国际储备量的平均增长速度低于 ( )

- A. 发达国家 B. 世界总体 C. 发展中国家 D. 中国

【答案】D

108.假设黄金价格为 500 美元/盎司,那么表中各年黄金储备量均超过相应年份国际储备量的国家有多少个? ( )

- A.0 B.1 C.2 D.3

【答案】C

109.与 2005 年相比,下面关于 2006 年储备量描述错误的是 ( )

- A. 中国黄金储备量占世界总体的比重略有上升  
B. 美国黄金储备量占世界总体的比重略有下降  
C. 中国黄金储备量没有变化,国际储备量上升  
D. 美国黄金储备量略有下降,国际储备量略有上升

【答案】B

110.从资料中不能推出的结论是 ( )

- A. 上表所列国家中,西方国家更倾向于进行黄金储备  
B. 与国际储备相比,表中多数国家黄金储备量相对稳定  
C. 整体看来,多数发达国家的黄金储备量大大高于其国际储备量  
D. 2000 年至 2006 年印度的国际储备量年平均增长速度快于韩国

【答案】C

### 三、根据下列文字材料回答问题。

2005 年在城镇投资中,国有及国有控股投资 40047 亿元,比上年增长 17.5%。第一产业投资 823 亿元,增长 27.5%;第二产业投资 31598 亿元,增长 38.4%。第三产业投资 42675 亿元,增长 20.0%。分行业看,煤炭开采及洗选业投资比上年增长 65.6%;电力、热力的生产与供应业投资增长 33.7%;石油和天然气开采业投资增长 29.7%;铁路运输业投资增长

45.7%；交通运输设备制造业投资增长 51.1%；纺织业投资增长 38.0%。教育投资增长 8.4%；卫生投资增长 28.9%。

2005 年全年研究与开发经费支出 2367 亿元，比上年增长 20.4%，占国内生产总值的 1.30%，其中基础研究经费 135 亿。2005 年末国有企事业单位共有各类专业技术人员 2720 万人，全年国家安排了 288 项科技攻关计划课题和 911 项“863”计划课题，新建国家工程研究中心 19 个。新安排国家重点实验室改造项目 16 项，累计达到 143 项，国家认定企业技术中心达到 361 家。全年共取得省部级以上科技成果 3.6 万项。全年受理国内外专利申请 47.6 万件，其中国内申请 383 万件，占 80.5%；受理国内外发明专利申请 17.3 万件，其中国内申请 9.3 万件，占 53.8%。全年共签订技术合同 26.5 万项，技术合同成交金额 1510 亿元，比上年增长 13.2%。

101、下列各行业，2005 年投资增长最大的是：

- A、纺织业 B、铁路运输业 C、电力、热力的生产与供应业 D、交通运输设备制造业

[答案]D

102、根据材料中的数据，2005 年第三产业投资占三大产业投资总额比重约为：

- A、40% B、50% C、60% D、70%

[答案]C

103、2005 年基础研究经费占全年研究与开发经费总额的：

- A、5.7% B、6.8% C、7.3% D、9.9%

[答案]A

104、2005 年受理国外发明专利申请：

- A、8 万件 B、9.3 万件 C、23.4 万件 D、38.3 万件

[答案]A

105、根据上述资料，以下说法正确的是：

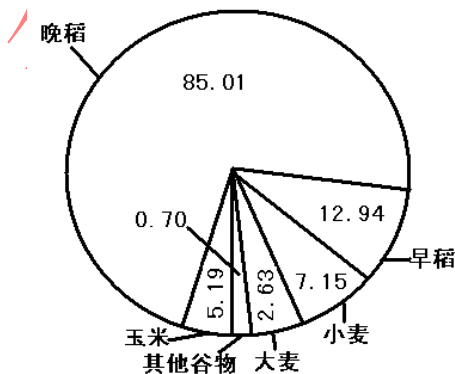
- A、2005 年所签订的技术合同每项平均成交额约为 57 万  
B、2005 年，城镇投资增加的总额中大部分来自国有及国有控股投资  
C、与上年相比，2005 年第二产业投资增加的总、额低于第三产业  
D、2005 年全年受理的国内专利申请中，绝大部分为发明专利申请

[答案]A

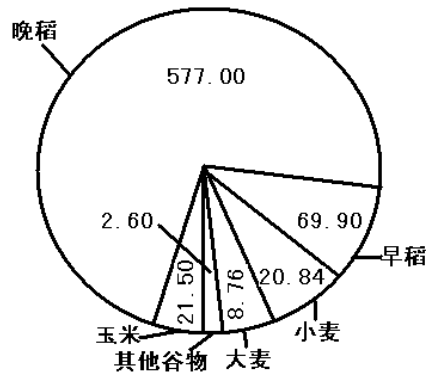
#### 四、根据下列资料回答问题。

2003 年，浙江省谷物类粮食种植面积为 113.62 万公顷(注：1 公顷=15 亩)，比上年减少 22.79 万公顷；谷物类粮食的总产量达 700.60 万吨。比上年减少 141.68 万吨。

2003 年谷物类粮食种植面积结构图  
单位：万公顷



2003 年谷物类粮食总产量结构图  
单位：万吨



106、2003 年浙江省谷物类粮食的总产量约比上年减少

- A、16.82% B、20.22% C、23.27% D、25.35%



[答案]A

107、2003 年浙江省谷物类粮食的平均亩产量约是多少

A、411 公斤 B、424 公斤 C、432 公斤

[答案]D

108、以下粮食作物中，2 叨 3 年的亩产量最高的是：

A、早稻 B、晚稻 C、小麦

[答案]B

109、2003 年亩产量最低的谷物类粮食的种植面积是：

A、2.31% B、4.57% C、6.29%

[答案]C

110、以下关于 2 叨 3 年谷物类粮食的生产情况的说法

A、晚稻的产量大于谷物类粮食总产量的 4 巧

B、产量最接近的两种粮食作物的种植总面积约为 185

C、“其他谷物”的种植面积和产量都是最小的

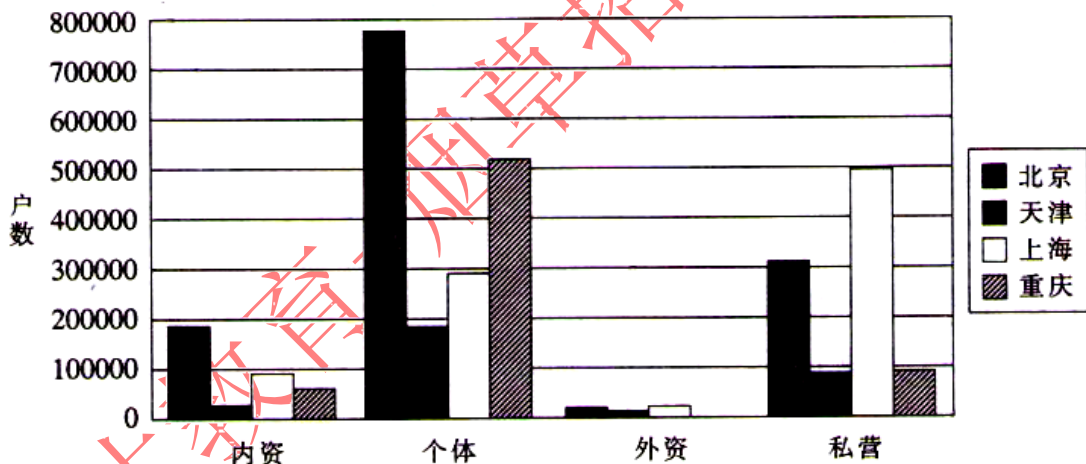
D、大麦的亩产量不足 210 公斤

[答案]D

08 吉林乙

根据下图回答第 81-85 题：

四直辖市市场主体登记数据对比图(截至 2007 年上半年)



81·截至 2007 年上半年末，四直辖市市场主体登记数据中市场主体户数最少的是：

A 内资企业 B 个体企业 C 外资企业 D 私营企业

[答案]C

82·截至 2007 年上半年末，在所登记的私营企业中上海的私营企业户数比重庆的私营企业户数大约多：

A · 300000 户 B · 400000 户 C · 500000 户 D · 600000 户

[答案]B

83·从上图可知，个体企业户数最多的直辖市是：

A · 北京市 B · 天津市 C · 上海市 D · 重庆市

[答案]A

84·截至 2007 年上半年末，在所登记的内资企业中户数最少的直辖市是：

A · 北京市 B · 天津市 C · 上海市 D · 重庆市

[答案]B

85·截至2007年上半年末,在所登记的个体企业中户数排在第二位的直辖市是:

- A·北京市 B·天津市 C·上海市 D·重庆市

[答案]D

根据下表回答问题 86-90 题:

序号	地区	质量竞争力指数
1	江苏	84.94
2	福建	84.39
3	上海	84.34
4	广东	83.82
5	北京	83.8
6	重庆	83.79
7	天津	83.76
8	浙江	82.86
9	辽宁	82.8
10	山东	80.86
11	四川	80.81
12	吉林	79.49
13	贵州	79.4
14	湖南	79.4
15	安徽	79.28
16	陕西	79.12
17	湖北	79.02
18	河北	78.28
19	江西	78.26
20	黑龙江	77.54
21	河南	76.79
22	山西	76.29
23	甘肃	75.57
24	广西	74.82
25	海南	74.61
26	内蒙古	74.36
27	青海	73.46
28	宁夏	72.71
29	云南	72.33
30	新疆	71.74
31	西藏	68.3

86·排在第一位的江苏省制造业的质量竞争力指数领先西藏:

- A·16.64                      B·17.51                      C·16.19                      D·17.19

[答案]A

87·地区质量竞争力指数处在较高水平(80 以?)的省份是:

- A·8 个                      B·9 个                      C·10 个                      D·11 个

[答案]D

88·制造业的质量竞争力指数排在第二十位的省份是:

- A·黑龙江                      B·河北                      C·江西                      D·河南

[答案]A

- 89·东北三省中,制造业的质量竞争力最强的是:  
A·黑龙江 B·吉林 C·辽宁 D·三个省份没有差别

[答案]C

- 90·下列表述中正确的是:  
A·制造业质量竞争力较强的地区大部分是西部地区  
B·制造业质量竞争力指数超过80分的地区中,西部地区有两个  
C·制造业质量竞争力指数与地区经济发展状况无关  
D·西部地区中制造业质量竞争力指数最高的是四川

[答案]B

根据下面资料回答91-95题:

2005年底,全国城镇房屋建筑面积164·51亿平方米,其中住宅建筑面积107.69亿平方米,占房屋建筑面积的比重为65.46%。东部地区房屋建筑面积83·8亿平方米,中部地区45.22亿平方米,西部地区35.48亿平方米,分别占全国城镇房屋建筑面积的50.94%、27.49%和21.57%。东部地区城镇住宅建筑面积53.67亿平方米,中部地区30.33亿平方米,西部地区23.69亿平方米,分别占全国城镇住宅建筑面积的49.84%、28.16%和22%。

2005年全国城镇人均住宅建筑面积26.11平方米,其中东部地区28平方米,中部地区23·9平方米,西部地区25.24平方米。

全国城镇户均住宅建筑面积83.2平方米,户均成套住宅套数0.85套。东部地区户均住宅建筑面积85.32平方米,中部地区77.96平方米,西部地区85.75平方米,户均成套住宅套数分别为0.89套、0.79套和0.83套。

2005年各地区城镇人均住宅建筑面积情况

(单位:平方米)

东部地区	28	中部地区	23.9	西部地区	25.24
北京	32.86	山西	24.79	内蒙古	22.96
天津	24.97	吉林	22.46	广西	25.23
河北	26.04	黑龙江	22.03	重庆	30.68
辽宁	21.96	安徽	22.56	四川	27.48
上海	33.07	江西	25.58	贵州	20.4
江苏	27.95	河南	23.4	云南	28.59
浙江	34.8	湖北	24.99	西藏	20.86
福建	32.28	湖南	26	陕西	23.4
山东	26.47			甘肃	23.28
广东	26.46			青海	22
海南	24.18			宁夏	23.9
				新疆	22.22

91·2005年底,全国城镇房屋建筑面积中非住宅建筑面积为:

- A·58.62亿平方米 B·56.82亿平方米  
C·52.86亿平方米 D·53.86亿平方米

[答案]B

92·2005年底,东部地区房屋建筑面积高于西部地区:

- A·48.32亿平方米 B·43.82亿平方米  
C·42.83亿平方米 D·52.83亿平方米

[答案]A

93·2005年在全国31个省市自治区中,城镇人均住宅建筑面积最大的是:

- A·北京市 B·上海市 C·福建省 D·浙江省

[答案]D

94.2005年在全国31个省市自治区中,高于全国城镇人均住宅建筑面积的省市自治区有:

- A·8个 B·9个 C·10个 D·11个

[答案]C


95·下列说法不正确的是:

- A·2005年底,全国城镇住宅建筑面积占房屋建筑面积达到五成  
B·东部地区城镇人均住宅建筑面积高于中部和西部地区  
C·全国城镇户均成套住宅套数不足一套  
D·辽宁省城镇人均住宅建筑面积多于贵州省1.56平方米

[答案]A

根据下图回答96-100题:

2006年最受用户关注的十大消费类数码相机品牌



96·2006年最受关注的品牌是:

- A·卡西欧 B·三星 C·索尼 D·佳能

[答案]D

97·2006年最受关注的两大品牌合计占所有品牌的比重为:

- A.19.0% B.47.9% C.28.9% D.50.8%

[答案]B

98·根据上图,消费者关注的十大品牌合计占所有品牌的比重为:

- A.97.4% B.95.9% C.67.8% D.56.9%

[答案]B

99·下列说法正确的是:

- A·2006年富士和松下两个品牌合计受关注程度要高于索尼品牌  
B·2006年理光和卡西欧两个品牌合计受关注程度要高于三星品牌  
C·2006年尼康和柯达两个品牌合计受关注程度要高于索尼品牌  
D·以上选项都不正确

[答案]D

100·下列说法正确的是:

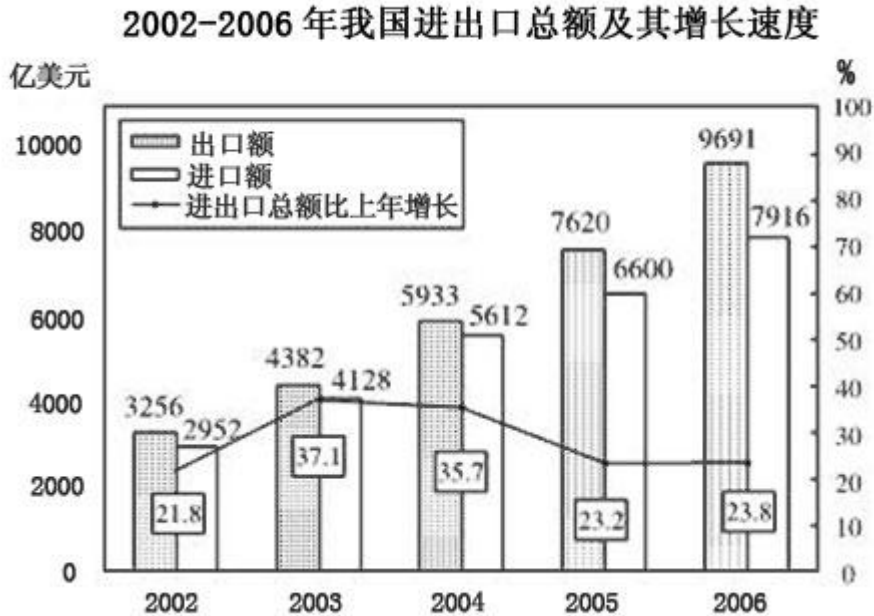
- A·2006年索尼和三星两个品牌的受关注程度要高于佳能品牌  
B·2006年三星和柯达合计占所有品牌比重为16.6%  
C·2006年富士和奥林巴斯合计占所有品牌的比重为12.6%

D·2006年理光和卡西欧合计占有所有品牌的比重为10.2%

[答案]B

08上半年

一、根据下列统计资料回答问题。



116.2002~2006年,我国的贸易顺差额(出口额-进口额)最小的年份是( )。

A.2002年 B.2003年 C.2004年 D.2006年

【答案】B

117.2006年,我国的出口额约比上年增长( )。

A.27.2% B.23.8% C.23.2% D.19.9%

【答案】A

118.2003~2006年的进口额年增长率超过25%的年份有( )。

A.1个 B.2个 C.3个 D.4个

【答案】B

119.与上年相比,进出口总额的增长率最高的年份的进出口总额为( )。

A.17607亿美元 B.14220亿美元

C.8510亿美元 D.5208亿美元

【答案】C

120.下列说法中,不正确的是( )。

A.2003~2006年,我国出口额与上年相比的增长量都超过1000亿美元

B.2003~2006年,我国的进出口总额呈逐年上涨状态

C.2004年至2006年,我国贸易顺差呈逐年上升趋势

D.2001年,我国的出口额约为2673亿美元

【答案】D

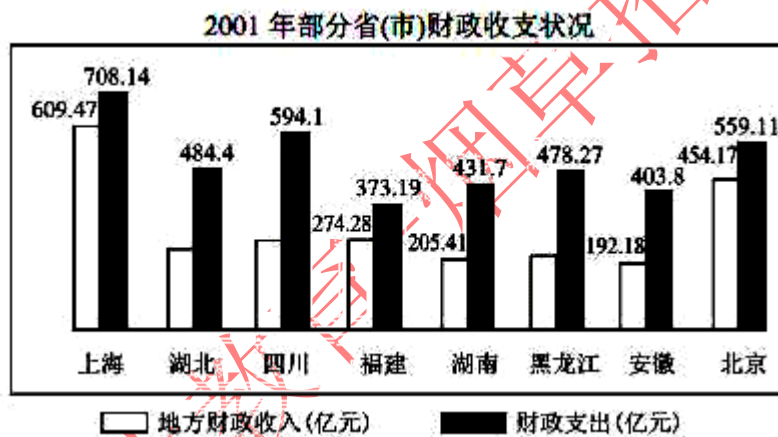
二、根据下列统计资料回答问题。

表一 2001年部分省(市)国民经济主要指标及在全国的位次

省份	GDP(亿元)		年末总人口(万人)		城镇居民人均可支配收入(元)		农民人均纯收入(元)	
	绝对值	位次	绝对值	位次	绝对值	位次	绝对值	位次
上海	4951	8	1614	25	12883	1	5871	1
湖北	4662	9	5975	9	5856	17	2352	11
四川	4422	10	8640	3	6360	15	1987	19
福建	4254	11	3440	18	8313	6	3381	7
湖南	3983	12	6596	7	6781	11	2299	12
黑龙江	3561	13	3811	15	5426	27	2280	13
安徽	1290	14	6328	8	5669	21	2020	18
北京	2846	15	1383	26	11578	2	5026	2

表二 2002年部分省(市)GDP比2001年增长情况(%)

省份	上海	湖北	四川	福建	湖南	黑龙江	安徽	北京
增长率	10.9	9.1	10.6	10.5	9.0	10.3	8.9	10.2



121. 2002年GDP绝对值比较中, 下列排名正确的是( )。

- A. 上海 > 四川 > 福建 > 湖北  
 B. 上海 > 湖北 > 四川 > 福建  
 C. 上海 > 四川 > 湖北 > 福建  
 D. 四川 > 上海 > 福建 > 湖北

【答案】B

122. 根据各省(市)年末总人口推算, 在2001年人均GDP比较中, 下列正确的是( )。

- A. 湖北 > 四川 > 福建 > 湖南  
 B. 湖北 > 福建 > 湖南 > 四川  
 C. 福建 > 湖北 > 湖南 > 四川  
 D. 福建 > 湖北 > 四川 > 湖南

【答案】C

123. 下列省(市)城镇居民可支配性收入与农村居民纯收入差距最大的是( )。

- A. 上海 B. 北京 C. 福建 D. 湖南

【答案】A

124. 假设各省市农村人口比例相同, 则2001年农民总收入最高的省市是( )。

- A. 四川 B. 湖南 C. 北京 D. 上海

【答案】A

125.从统计图中可以看出,2001年北京、上海、福建三省市地方财政收入与财政支出差距十分接近,但从地方财政收入占GDP的比重看( )。

- A.北京>上海>福建 B.上海>北京>福建  
C.北京>福建>上海 D.上海>福建>北京

【答案】A

三、根据下列材料回答问题

2007年6月我国内地入境旅游人数统计表

地区	合计(人)	同比月增长(%)	入境方式(人)				
			船舶	飞机	火车	汽车	徒步
合计	10666830	6.47	476486	1564539	129764	2857742	5638299
香港同胞	6218007	6.81	162239	134333	60698	2420066	3440401
澳门同胞	1881769	-6.45	5279	4215	173	97080	1775022
台湾同胞	392425	8.26	71053	183012	2426	51034	84900
外国游客	2174629	19.29	237915	1242979	66197	289562	337976
亚洲	1351623	22.03	133804	823937	23904	111025	258953
美洲	239906	9.26	13116	171606	6473	19936	28775
欧洲	496024	17.11	86173	196045	31560	151333	30913
大洋洲	57018	15.42	3990	32744	1948	5051	13285
非洲	29825	31.49	819	18589	2304	2161	5952
其他国家	233	13.11	13	58	8	56	98

126.下列选项中,正确的一项是( )。

- A.在国外游客中,2007年6月非洲国家到我国旅游的人数增长最多  
B.以目前的增长速度,非洲国家的游客人数有望在年内超过来自大洋洲的游客人数  
C.相对于外国游客,港澳台游客更喜欢徒步游的方式  
D.飞机是外国游客来我国游览的必选方式

【答案】B

127.2007年5月入境游客中,港澳台入境游客与外国游客人数的比值约为( )。

- A.4.5 B.3.9 C.0.26 D.0.22

【答案】A

128.2007年5月欧洲入境人数占总体入境旅客的比率是( )。

- A.18.19% B.17.11% C.4.7% D.4.2%

【答案】D

129.2007年6月选择徒步入境的人数约占入境总人数的( )。

- A.23% B.33% C.43% D.53%

【答案】D

130.同比月增长率大于10%的地区2007年6月入境总人数是( )。

- A.1836947 B.1934490 C.1934723 D.4109352

【答案】C

四、根据下列统计资料回答问题。

2007年前三季度,A市工业生产保持稳步增长的良好态势。全市规模以上工业企业(下同)实现工业增长值3806.37亿元,比去年同期增长12.7%。其中,轻工业增加值1088.25亿元,增长9%;重工业增加值2718.12亿元,增长14.2%。完成工业总产值15777.56亿元,比去年同期增长16.2%。其中,轻工业完成3550.44亿元,增长9.7%;重工业完成12227.12

亿元, 增长 18.2%。

六个重点发展工业行业是本市工业增长的主要拉动力, 前三季度共完成工业总产值 10282.8 亿元, 比去年同期增长 19.3%。其中电子信息产品制造业和汽车制造业增速较快, 共拉动全市工业增长了 8.5 个百分点。

前三季度, 该市完成工业出口交货值 5055.65 亿元, 比去年同期增长 20.9%。今年以前, 工业出口交货值增幅波动较大。1 月份因去年基数较低, 故增幅较高, 为 26.3%; 2 月份受春节影响, 增幅出现较大滑落, 仅为 9.5%; 3~5 月增幅均低于 20%; 自 6 月份开始, 全市工业出口交货值增速大幅回升, 且连续几个月基本稳定在 25% 左右。

前三季度, 电子信息产品, 共生产笔记本电脑 2526.69 万部, 比去年同期增长 76.4%; 显示器 81.89 万台, 增长 69.5%; 移动通信基站设备 192.84 万信道, 增长 59.4%; 程控交换机 294.15 万线, 下降 29.5%。

成套设备产品, 生产交流电动机 926.70 万千瓦, 比去年同期增长 23.9%; 金属切削机床 1.12 万台, 增长 5.4%; 升降移动机械 3.57 万台, 增长 7.9%。

石油化工产品, 原油加工量为 1817.98 万吨, 比去年同期下降 3.5%; 生产乙烯 138.42 万吨, 下降 4.1%; 橡胶轮胎外胎 743.78 万条, 下降 7.9%。

钢材产品, 生产成品钢材 1633.95 万吨, 比去年同期增长 14.2%; 生铁 1335.64 万吨, 增长 6.3%; 生钢 1552.59 万吨, 增长 7.5%。

131. 2006 年前三季度, 该市完成工业总产值约为()。

- A. 3377 亿元 B. 3311 亿元 C. 13578 亿元 D. 13221 亿元

【答案】C

132. 2007 年前三季度, 电子信息产品制造业和汽车制造业较去年同期增长()。

- A. 2603.6 亿元 B. 1154.1 亿元 C. 1137.8 亿元 D. 141.40 亿元

【答案】B

133. 2007 年前三季度, 六个重点发展工业行业拉动全市工业增长() 百分点。

- A. 12.3 B. 14.2 C. 65.2 D. 无法计算

【答案】A

134. 由以上材料可知()。

- A. 该市工业行业发展平衡, 各行业对全市工业产值增加的贡献率相同  
B. 各类主要工业产品产量有升有降  
C. 工业出口交货值涨幅稳中有升  
D. 电子信息产品与汽车制造业的产值占该市工业总产值的一半以上

【答案】B

135. 该市 2006 年前三个季度, 全市规模以上工业企业实现的增加值中重工业所占的比例为()。

- A. 28.59% B. 29.56% C. 70.5% D. 71.4%

【答案】C

08 山东

(一) 社会性别是一个能够影响公共政策制定中公民参与状况的重要变量, 其对公民参与的信息来源、参与动机以及参与频次等方面都有十分重要的影响。下面以湖北、湖南、河南、江西、安徽和山西等六省为个案, 从量化层面考察了社会性别对于我国政策制定中公民参与的影响。调查的时间跨度为 2004 年 8 月至 2006 年 9 月。共发出问卷 1600 份, 收回有效问卷 1384 份。

公民通过什么渠道了解公共政策信息, 对于公民的参与动机、参与努力和参与规模具有相当大的影响, 所以问卷设计了“你了解国家公共政策信息的第一渠道”的问题。该问题为单选, 具体回答情况见表 1。



表 1 社会性别与公民了解公共政策信息的第一渠道

性别	国内电视	国内广播	国内报纸	国内杂志	互联网	会议文件	街谈巷议	外媒
男	536	23	159	5	66	24	22	1
%	64.1	2.8	19.0	0.6	7.9	2.9	2.6	0.1
女	363	13	80	12	55	7	14	4
%	66.2	2.4	14.6	2.2	10	1.3	2.6	0.7

请根据表 1 回答 126~129 题。

126.从表 1 中可以看出,公民获取政策信息的主渠道有三个,按照选择人数多少依次是( )。

- A.国内电视、国内报纸、互联网                      B.国内报纸、国内电视、互联网  
C.互联网、国内电视、国内报纸                      D.国内报纸、互联网、国内电视

【答案】A

127.从以上三大渠道获取政策信息的人数合计占总人数的比例是( )。

- A.91.03%                      B.90.88%                      C.90.97                      D.91.3%

【答案】C

128.如果样本人数相等,则选择“国内报纸”、“会议文件”作为接受政策信息第一渠道的男性公民人数分别是女性公民人数的( )。

- A. 1.2 倍、2.2 倍                      B.1.3 倍、1.5 倍  
C. 3.7 倍、1.3 倍                      D.1.3 倍、2.2 倍

【答案】D

129.以上数据能说明的是( )。

- A.男、女公民在选择接受政策信息的渠道方面没有明显不同的偏好  
B.男性比女性更倾向于利用“国内报纸”、“各种会议及文件”获取政策信息  
C.男性比女性更倾向于利用“国内杂志”、“互联网”获取政策信息  
D.男性比女性更倾向于利用外国或港澳台媒体获取政策信息

【答案】B

(二)为了解公民参与政策制定的动机,本研究设计了“如果你有过参与政策制定的相法或行为,其原因是什么”的问题。该问题为多项选择,备选答案有六项,依次为:“基于从众行为”、“出于个人兴趣”、“由于个人利益”、“出于维护公共利益”、“基于公民权利”、“出于公民责任心”。六项备选答案的排列顺序是基于其同政治制度的关系。在选项中,“出于公民责任心”行“出于维护公共利益”并不是同一个概念。共有 1974 人次对参与政策制定的动机做出了回答,其中男性公民 1169 人次,女性公民

805 人次, 统计结果见表 2。

表 2 社会性别与公民参与政策制定的动机

性别	公民责任	公民权利	公共利益	个人利益	个人兴趣	从众行为
男	393	296	218	134	93	35
%	33.6	25.3	18.7	11.5	8.0	3
女	251	2.8	113	123	84	26
%	31.2	25.8	14.0	15.3	10.4	3.2
总	644	504	331	257	177	61
总	32.6	25.5	16.7	13.0	9.0	3.1

请根据表 2 回答 130 — 133 题。

130. 女性公民在“公民责任、公民权利、公共利益”三个高选择率项上选择人次占女性总选择人次的( )。

- A.71.1%      B.77.5%      C.74.9%      D.75.1%

【答案】A

131. 从表 2 看出, 在个人利益、个人兴趣两个选项上, 女性选择人次比例高于男性; 在公民责任、公共利益两个选项上, 男性选择人次比例高于女性。这说明

- A. 女性在公共政策制定的参与动机上比男性更加感性化  
 B. 女性在公共政策制定的参与动机上比男性更加理性化  
 C. 与男性相比, 女性参与动机呈现出高公共性的特征  
 D. 社会性别与公民参与政策制定的频次问题

【答案】A

132. 以下理解有误的是( )。

- A. 参与动机与政治制度的关系越紧密, 越容易激发公民参与公共政策制定的积极性  
 B. 参与动机接受政治制度的干预越多, 越容易激发公民参与公共政策制定的积极性  
 C. 参与动机与政治制度的关系越紧密, 越不容易激发公民参与公共政策制定的积极性  
 D. 参与动机接受政治制度的干预越多, 越容易引发更多的公民参与政策制定

【答案】C

133. 表 2 数字显示( )。

- A. 公共政策制定中的公民参与动机, 是出于公心、出于有利于他人  
 B. 公共政策制定中的公民参与动机, 是出于高尚的情操和道德  
 C. 从主流来说, 我国公民参与公共政策制定的动机是可靠的

D.出于个人利益、个人兴趣、个人从众行为的选择占有不小的比例

【答案】D

(三)本问卷设计了“在过去的两年中,您直接参与公共政策制定的次数是多少”的问题,旨在考察公民参与公共政策制定的频次,了解社会性别对参与次数的影响。该问题为单项选择问题,备选答案有六项:零次、1~2次、3次、4次、5次、6次以上。共有 1383 人进行了回答,其中,男性公民 835 人,女性公民 548 人。答案选择情况见表 3。

表 3 社会性别与公民参与政策制定的次数

性别	零次	1—2	3	4	5	6
男	55.9	175	49	25	7	20
%	66.9	21.0	5.9	3.0	0.8	2.4
女	449	69	12	15	1	2
%	81.9	12.6	2.2	2.7	0.2	0.4
总	1008	244	61	2.7	8	22
%	72.9	17.6	4.4	2.7	0.6	1.6

请根据表 3 回答 134~135 题。

134.通过表 3 能够得出的最恰当结论是( )。

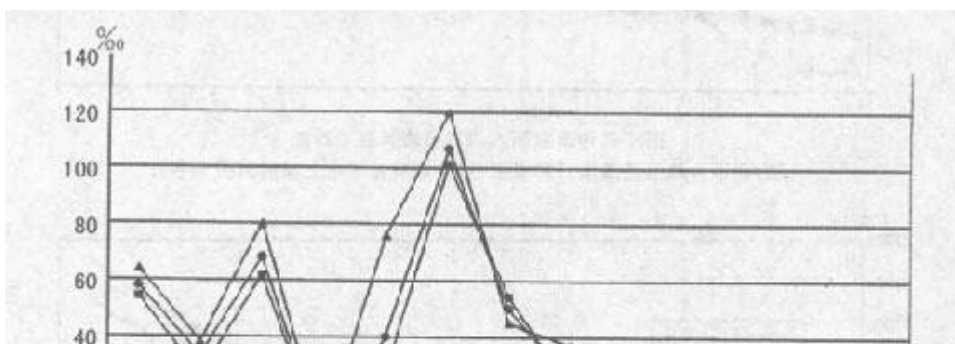
- A.不同性别的公民参与政策制定的次数有差异
- B.性别对公民参与政策制定的次数具有影响
- C.不同性别的公民参与政策制定的次数有显著差异,性别对公民参与政策制定的次数具有重要影响
- D.不同性别的公民参与政策制定的次数没有显著差异,性别对公民参与政策制定的次数不具有重要影响

【答案】C

135.对女性公民参与人数随着参与次数的增多所产生的递减速度较慢现象的原因,不能的解释是( )。

- A.女性公民独立的政策诉求更加明晰,实现自身政治价值的理念日益强化,分外珍惜与政策制定的机会
- B.大多数女性公民尽可能地利用各种方式和途径保护自己的权利,不轻易放弃表达政策诉求的努力
- C.在参与人数递减时,使得递减现象也处于低组织化状态,容易形成较大规模的群体参与行为的递减现象
- D.低组织化状态对女性公民参与人数的递减速度起到了一种缓冲作用

【答案】C



22. 1990年, 婴儿死亡率最高的国家其数值大约是世界平均水平的\_\_\_\_\_倍。

- A. 3                      B. 1.5                      C. 2.5                      D. 2

【答案】D

23. 2000年, 埃及的婴儿死亡率在所列的12个国家中由高到低, 居第\_\_\_\_\_位。

- A. 3                      B. 4                      C. 5                      D. 9

【答案】B

24. 各大洲中, 婴儿死亡率相对变动较小的一个大洲是\_\_\_\_\_。

- A. 亚洲                      B. 美洲                      C. 欧洲                      D. 非洲

【答案】C

25. 下列说法中不正确的一项是\_\_\_\_\_。

- A. 中国在1990年、2000年和2004年的婴儿死亡率均低于世界平均婴儿死亡率  
B. 南非在在1990年、2000年和2004年的婴儿死亡率变化是非洲三国中最小的  
C. 2000年, 美国、墨西哥和阿根廷的婴儿死亡率均比亚洲国家要低  
D. 从图上看。总体上婴儿死亡率有逐年下降的趋势

【答案】C

## 08 四川

一、根据下表回答86~90 题。

我国税收收入占国民生产总值比重表

年份	GDP(亿元)	税收收入(亿元)	税收收入/GDP(%)
1985	8964.4	2040.8	22.8
1986	10202.2	2090.7	20.5
1987	11962.5	2140.4	17.9
1988	14928.3	2390.5	16.0
1989	16909.2	2727.4	16.1
1990	18547.9	2821.9	15.2
1991	21617.8	2990.2	13.8
1992	26638.1	3296.9	12.4
1993	34643.4	4255.3	12.3
1994	46759.4	5126.9	11.0
1995	58478.1	6038.0	10.3

1996	67884.6	6906.8	10.2
1997	74462.6	8234.0	11.1
1998	79395.7	9262.8	11.7

86. 1985~1998年期间我国国内生产总值(GDP)总计为 ( )

- A.451059.8亿元                      B.489870.3亿元  
C.491394.2亿元                      D.662167.8亿元

【答案】C

87. 1985~1998年期间我国税收收入占国内生产总值的比重(税收收入/GDP)比上年减少的年份共计有( )

- A.5年                      B.7年                      C.8年                      D.10年

【答案】D

88. 1985~1998年期间我国国内生产总值(GDP)增加额最大的年份是( )

- A.1992年                      B. 1994年                      C. 1996年                      D. 1998年

【答案】B

89. 1985~1998年期间我国税收增长率最大的年份是( )

- A.1993年                      B. 1994年                      C. 1996年                      D.1997年

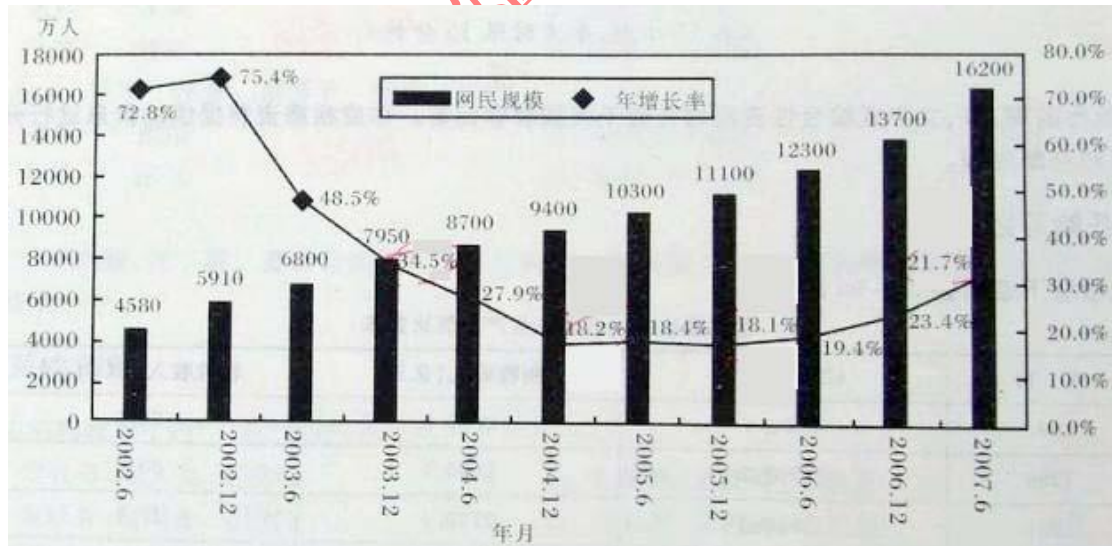
【答案】A

90. 1985~1998年期间,我国国内生产总值(GDP), 税收收入, 税收收入占我国国内生产总值(GDP)三者比上年同方向增减的年份共计有( )

- A.1年                      B. 3年                      C. 5年                      D. 6年

【答案】B

二、根据以下资料回答 91~95 题。



91. 2007年6月与2006年同期相比, 网民数增加了( )。

- A.1400万                      B. 2000万  
C.2500万                      D. 3900万

【答案】D

92. 年底与年中相比, 网民规模增长最快的年份是( )。

- A.2002年                      B. 2003年

C.2004年 D. 2006年

【答案】A

93. 2003~2006年, 网民规模的年平均增长率是( )。

A.21% B. 23% C. 32% D. 34%

【答案】B

94. 2002年6月到2007年6月, 网民的年平均增长数约为( )。

A.1298 万 B. 1948 万 C. 2324 万 D. 2789 万

【答案】C

95. 下列说法正确的是

- A. 2002年到2007年, 网民人数翻了两番
- B. 从2003年开始, 网民规模增长率开始持续下滑
- C. 2002年到2007年, 每6个月的网民增长人数保持在800万左右
- D. 若保持2007年的同比增长率, 则到2008年6月网民人数将超过20000万人

【答案】D

三、根据下段文字回答96~100 题。

2006年底, 全国参加基本医疗保险人数为15737万人, 比上年底增加1954万人。其中, 参保职工11587万人, 比上年底增加1565万人, 参保退休人员4150万人。2006年, 全国基本医疗保险基金收入1728亿元, 支出1275亿元, 分别比上年增长23.0%和18.1%。截止2006年底, 基金累计结存1720亿元, 其中统筹基金结存1056亿元, 个人账户积累664亿元。

2006年全年城镇基本养老保险基金比上年增长23.9%, 其中征缴收入5215亿元, 增长20.9%。各级财政补贴基本养老保险基金971亿元, 中央财政预算安排774亿元。全年基金总支出4897亿元, 比上年增长21.2%。

2006年全国参加农村养老保险的人数为5374万, 全年共有355万农民领取了养老金, 比上年增加53万人, 全年共支付养老金30亿元, 年末农村养老保险基金累计结存354亿元。

2006年底, 全国参加失业保险人数为11187万人, 比上年底增加539万人。2006年底, 全国领取失业保险金人数为327万人, 比上年底减少35万人。全国失业保险基金收入385亿元, 比上年增长15.8%, 支出193亿元, 比上年下降6.9%。截止2006年底, 基金累计结存708亿元。

96. 2006 年参保退休人数数量比上年增加了 ( )

A.9.37% B.10.34% C.13.51% D.19.91%

【答案】B

97. 2005年全国基本医疗保险基金支出额为 ( )

A.1079.6亿元 B. 1123.7亿元 C. 989.4亿元 D. 1201.9亿元

【答案】A

98. 如果2007年全国城镇基本养老保险基金支出总额与2006年持平, 且月支出额相当, 那么, 2006年结存的城镇基本养老保险基金大约可维持2007年 ( ) 个月的支出。

A.4 B.5 C.6 D.7

【答案】B

99. 2005 年年末失业保险金累计结存 ( )

A.395亿元 B. 385亿元 C.192亿元 D. 516亿元

【答案】D

100. 2006 年, 资料中所述的四种保险中 ( )

- A.全国基本医疗保险基金的结存额最高
- B.全国城镇基本养老保险基金收入和支出的增幅均最大
- C.全国农村养老保险, 参加人数最少, 基金支出额最低

D.全国失业保险基金是唯一一项支出减少的基金

【答案】D

(三)根据下表提供的信息回答121~125题。

某展览馆某日四个入口自动计数器的统计如下:

自动计数器在不同时间的读数

入口	8: 00	9: 00	10: 00	11: 00	12: 00	13: 00
1	7111	7905	8342	8451	8485	7213
2	8432	9013	9152	9237	9306	8435
3	5555	5921	5989	6143	6233	5987
4	954	1063	1121	1242	1299	1098

121.从早上9: 00到11: 00通过入口2进入博物馆的参观人数是()。

A.224 B.27402 C.9237 D.9152

【答案】A

122.上午10: 00到12: 00之间, 通过人数最多的入口是()。

A.1 B.2 C.3 D.4

【答案】C

123.在11: 00到12: 00之间, 通过4个入口的总人数是()。

A.57 B.250 C.396 D.271

【答案】B

124.在9: 00到10: 00之间, 通过人数最少的入口是()。

A.1 B.2 C.3 D.4

【答案】D

125.在13: 00时刻, 人数减少比例最大的入口是()。

A.1 B.2 C.3 D.4

【答案】D

(四)根据下图提供的信息回答 126~130 题。

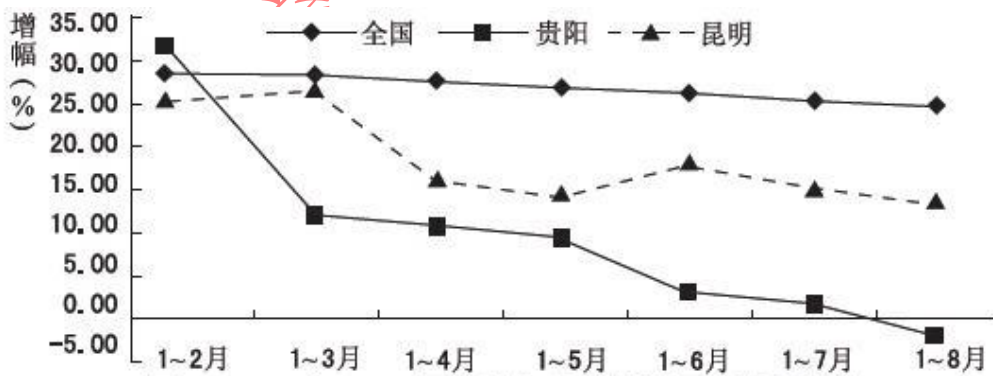


图 1 2007 年 1~8 月房地产开发投资同比增幅变化

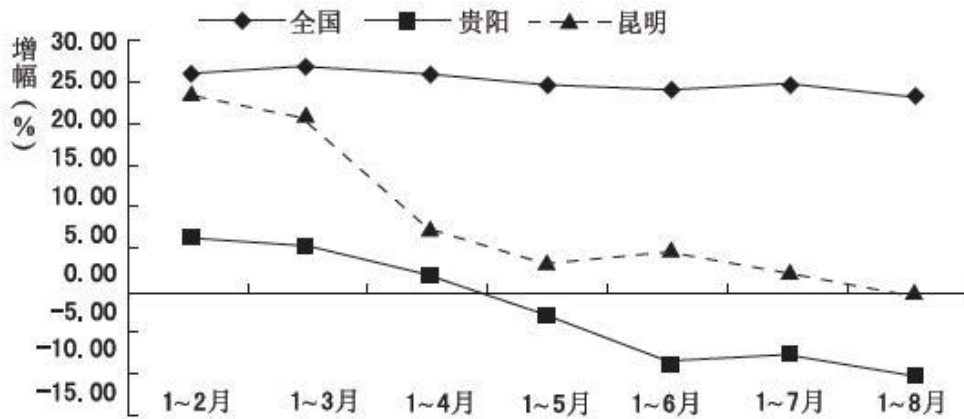


图2 2007年1~8月商品住宅开发投资同比增幅变化

126.2007年1~8月,全国房地产开发投资增幅与1~4月投资增幅相比( )。

- A.上升约6个百分点
- B.下降约5个百分点
- C.上升约3个百分点
- D.下降约3个百分点

【答案】D

127.2007年1~4月,贵阳房地产开发投资增幅比2007年1~8月增幅高( )。

- A.约8.9%
- B.约8.9个百分点
- C.约23%
- D.约13个百分点

【答案】D

128.下列说法正确的是( )。

- A.2007年1~8月,全国房地产开发投资比较平稳,涨幅最高为8个百分点
- B.2007年1~8月,贵阳的房地产开放投资额呈每月递减趋势
- C.2007年1~8月,昆明的商品住宅开发投资同比增幅变化大于贵阳
- D.2007年8月份,贵阳商品住宅开发投资额高于同期昆明商品住宅开发投资额

【答案】C

129.若2007年1~6月份,全国房地产开发投资额总计8920.1亿元,则2006年同期房地产开发投资额约为( )。

- A.11007亿元
- B.9027亿元
- C.7079亿元
- D.5278亿元

【答案】C

130.通过以上两图,可以得出的正确结论是( )。

- A.2007年全国房地产进入低迷期
- B.2007年宏观调控对房地产市场起到非常显著的作用
- C.2007年房地产开发量的激增是造成房地产价格持续走低的主要原因
- D.2007年1~8月份商品住宅新开工面积较2006年同期多

【答案】D

08 浙江

一、根据下表,完成 111-115 题



部分上市银行年报数据表  
(单位:百万元)

项目	中国银行		华夏银行		民生银行		招商银行	
	2006年	2005年	2006年	2005年	2006年	2005年	2006年	2005年
净利息收入	120707	100405	7386	5595	16167	12379	21509	16642
营业收入	137628	116028	10070	7631	17303	12819	25084	19179
利润总额	67009	55140	2411	1989	5237	4285	10397	6500
净利润	41892	27492	1457	1279	3831	2673	7107	3787
资产总计	5325273	4742806	445053	355921	700449	557505	934102	736413
不良贷款	98220	103226	7087	7113	5502	5240	12006	11845

111、2006年,营业收入最低的银行是:

- A、中国银行      B、华夏银行      C、民生银行      D、招商银行

【答案】B

112、与2005年相比,2006年招商银行的净利润约增长了:

- A、81.37%      B、83.28      C、85.16%      D、87.67%

【答案】D

113、2005年,四个银行的净利息收入的总和约为:

- A、1350亿元      B、1658亿元      C、1784亿元      D、1821亿元

【答案】A

114、与上年相比,2006年四个银行中,“利润总额”的增长率最大的银行是:

- A、中国银行      B、华夏银行      C、民生银行      D、招商银行

【答案】D

115、下列说法中,不正确的一项是:

- A、2006年中国银行的“资产总计”的同比增长率超过了10%  
B、与上年相比,2006年四个银行的“不良贷款”的总和下降了  
C、2006年,华夏银行6个项目的数据都比其他三个银行相应项目的数据小  
D、与上年相比,2006年四个银行的“利润总额”和“净利润”都增加了

【答案】C

二、根据以下文字材料。完成116---120题

据2006年人口变动抽样调查,年末浙江省常住人口为4980万人,比上年增长1.67%。

其中，男性人口 2511.4 万人，女性人口 2468.6 万人，分别占总人口的 50.43% 和 49.57%。  
全年出生人口 50.78 万人，出生率为 10.29%；死亡人口 36.75 万人，死亡率为 5.42%。

据对全省城乡住户抽样调查，全省城镇居民人均可支配收入 18265 元，农村居民人均纯收入 7335 元，分别比上年实际增长 10.9% 和 9.3%。城镇居民人均住房使用面积 26.4 平方米，比上年末增加 0.3 平方米；，农村居民人均居住面积 55.6 平方米，比上年末增加 0.6 平方米。

全年全省参加企业养老保险人数 964.4 万人，比上年末增加 87.6 万人；企业实际缴费人数 722 万人，企业养老保险基金收入 318.2 亿元，支出 192.3 亿元，累计结余 453.7 亿元，比上年末增加 125.9 亿元，基金支付能力稳定上升，支付能力达 26 个月。参加失业保险人数 504.4 万人，比上年末增长 13.4%；基本医疗保险参保人数 730.6 万人，比上年末增长 14.2%；工伤保险参保人数 604 万人，比上年末增长 33.3%。

新型社会救助体系进一步深化完善。全省已有城乡低保对象 62.9 万人，其中城镇 8.9 万人，月均补助 145.5 元/人；农村 54 万人，月均补助 72.3 元/人。年末全省各种收养性社会福利单位拥有床位 10.69 万张，收养人员 7.56 万人。农村五保集中供养率 92%，城镇“三无”集中供养率 98%。现有 1500 多个乡镇(街道)和 2.7 万个社区(村)建立了社会救助综合管理服务管理机构，分别占总数的 98.6% 和 73.4%，社会救助工作人员 3.8 万名。

116、2006 年浙江省自然增长人口：

- A、24.03                      B、27.46 万人                      C、29.51 万人                      D、32.73 万人

【答案】A

117、2006 年全省城镇居民人均可支配收入约比上年增加了：

- A、9.3%                      B、12.2%                      C、1991 元                      D、1795 元

【答案】D

118、与上年末相比，2006 年末，以下四个项目人数增加最多的是：

- A、参加企业养老保险人数                      B、参加失业保险人数  
C、基本医疗保险参保人数                      D、工伤保险参保人数

【答案】D

119、根据以下资料，2006 年全省用于农村低保对象的补助支出约为：

- A、0.39 亿元                      B、4.69 亿元                      C、0.13 亿元                      D、1.55 亿元

【答案】B

120、已知 2005 年女性人口约占全省常住人口总数的 49.3%，则 2005 年全省的女性人口约

为:

- A、2367 万人      B、2391 万人      C、2415 万人      D、2432 万人

【答案】C

三、根据下表，完成 121----125 题

某年五省市国有企业主要指标对比

项 目	浙江	上海	广东	北京	山东
企业数(户)	4604	9833	8565	5029	5851
资产(亿元)	6740.9	15809.9	11961.2	8725.7	7925.1
净资产(亿元)	2561.3	6315.7	4564	3096.5	2525.1
国有资产总量(亿元)	1979.7	4304.5	3543.9	2371	1747.2
营业收入(亿元)	3500.4	6193.2	5423.9	3302.2	4364.7

121、国有企业数最多的地区是:

- A、浙江      B、上海      C、广东      D、山东

【答案】B

122、浙江省国有企业的“营业收入”比北京市多:

- A、158.7 亿元      B、162.4 亿元      C、173.6 亿元      D、198.2 亿元

【答案】D

123、广东省国有企业的“国有资产总量”比山东省多:

- A、4036.1 亿元      B、3125.4 亿元      C、1796.7 亿元      D、1438.6 亿元

【答案】C

124、五省市国有企业的“资产”总和为:

- A、51162.8 亿元      B、51376.4 亿元      C、51546.3 亿元      D、51760.7 亿元

【答案】A

125、以下说法中，不正确的一项是:

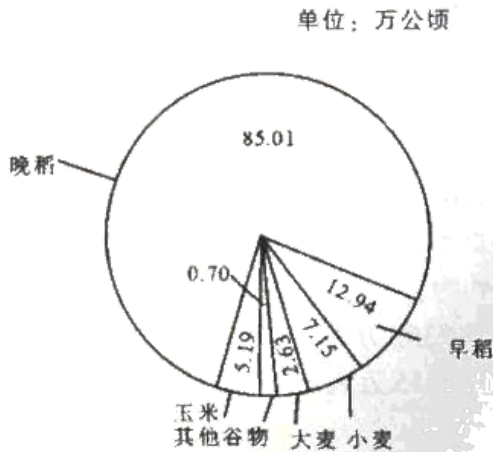
- A、五省市中，浙江省的国有企业数最少  
B、上海市国有企业的“净资产”比浙江省和北京市两地国有企业的“净资产”总和还多  
C、山东省国有企业的“营业收入”比广东省低，比北京市高  
D、上海市国有企业的“营业收入”比浙江省的两倍还多

【答案】D

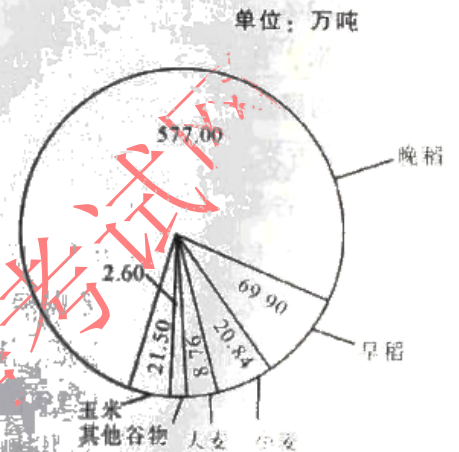
四、根据下列资料，回答 126—130 题。

2003 年，浙江省谷物类粮食种植面积为 113.62 万公顷(注：1 公顷=15 亩)，比上年减少 22.79 万公顷；谷物类粮食的总产量达 700.60 万吨，比上年减少 141.68 万吨。

2003 年谷物类粮食种植面积结构图



2003 年谷物类粮食总产量结构图



126、2003 年浙江省谷物类粮食的总产量约比上年减少：

- A、16.82%      B、20.22%      C、23.27%      D、25.35%

【答案】A

127、2003 年浙江省谷物类粮食的平均亩产量约为多少公斤？

- A、411 公斤      B、424 公斤      C、432 公斤      D、446 公斤

【答案】A

128、以下粮食作物中，2003 年亩产量最高的是：

- A、早稻      B、晚稻      C、小麦      D、玉米

【答案】D

129、2003 年亩产量最低的谷物类粮食的种植面积是：

- A、2.31%      B、4.57%      C、6.29%      D、74.82%

【答案】C

130、以下关于 2003 年谷物类粮食的生产情况的说法中，不正确的一项是：

- A、晚稻的产量大于谷物类粮食总产量的  $\frac{4}{5}$
- B、产量最接近的两种粮食作物的种植总面积约为 185 万亩

C、“其他谷物”的种植面积和产量都是最小的

D、大麦的亩产量不足 210 公斤

【答案】D

09 江苏

根据下面资料回答86—90 题：

据统计，2000 年我国食品工业总产值达到6622 亿元，利税总额达1430.3 亿元，出口创汇130.7 亿美元。我国食品工业“十五”发展目标是：食品工业总产值在2005 年达到13800 亿元，到2010 年达到22225 亿元；利税总额2005 年达到2100 亿元，到2010 年达到3080 亿元；2005 年的出口创汇达到170—200 亿美元，2010 年达到270 亿美元。

86. 2000—2010年10年间，我国食品工业总产值的目标是在2000年的基础上（ ）。

A. 翻一番 B. 翻二番 C. 增长230% D. 增长330%

【答案】A

87. 从上述提供的资料可以看出，我国食品工业出口创汇在工业产值中的比重变化趋势是：

A. 增长 B. 先增后降 C. 下降 D. 先降后增

【答案】C

88. 从上述提供的资料可以看出，引起上题（87 题）变化趋势的最主要原因是：

A. “十五”期间，我国确定扩大内需发展战略。  
B. 受美国经济衰退的影响，我国出口业将增长缓慢。  
C. 我国食品工业的技术革新有待提高。  
D. 无法确定。

【答案】D

89. 2000—2010年十年间，我国食品工业利税总额将提高（ ）

A. 115.3% B. 53.6% C. 68.5% D. 46.8%

【答案】A

90. 假设利税率=利税总额/工业总产值，则未来十年我国食品工业利税率的变化趋势是：（ ）

A. 增长 B. 下降 C. 先增后降 D. 先降后增

【答案】B

09 北京

一、根据下列统计资料回答 116—120 题

2008 年，初步核算，全年国内生产总值 300670 亿元，比上年增长 9.0 %。分季度看，一季度增长 10.6%，二季度增长 10.1%，三季度增长 9.0%，四季度增长 6.8%。分产业看，第一产业增加值 34000 亿元，增长 5.5%；第二产业增加值 146183 亿元，增长 9.3%；第三产业增加值 120487 亿元，增长 9.5%。

全年规模以上工业增加值比上年增长 12.9%，增速比上年回落 5.6 个百分点，东、中、西部地区分别增长 11.6%、15.8%和 15.0%。

全年全社会固定资产投资 172291 亿元，比上年增加 25.5%，增速比上年加快 0.7 个百分点。其中，城镇固定资产投资 148167 亿元，增长 26.1%，加快 0.3 个百分点；农村固定

资产投资 24124 亿元，增长 21.5%。在城镇投资中，第一产业投资 2256 亿元，增长 54.5%；第二产业投资 65036 亿元，增长 28.0%；第三产业投资 80875 亿元，增长 24.1%。分地区看，东、中、西部地区城镇投资分别增长 21.3%、33.5%和 26.7%。全年房地产开发投资 30580 亿元，比上年增长 20.9%。

全年社会消费品零售总额 108488 亿元，比上年增长 21.6%，增速比上年加快 4.8 个百分点。分城乡看，城市消费品零售额 73735 亿元，增长 22.1%，加快 4.9 个百分点；县及县以下消费品零售额 34753 亿元，增长 20.7%，加快 4.9 个百分点。分行业看，批发和零售业消费品零售额 91199 亿元，增长 21.5%；住宿和餐饮业消费品零售额 15404 亿元，增长 24.7%。

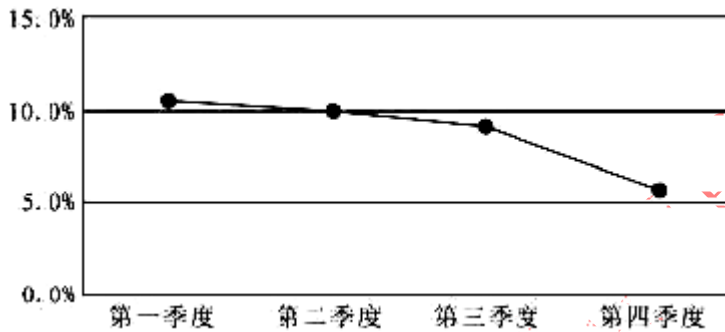
116、2006 年，全年社会消费品零售总额为

- A. 76384.5 亿元 B. 89217.1 亿元 C. 92883.6 亿元 D. 131872.8 亿元

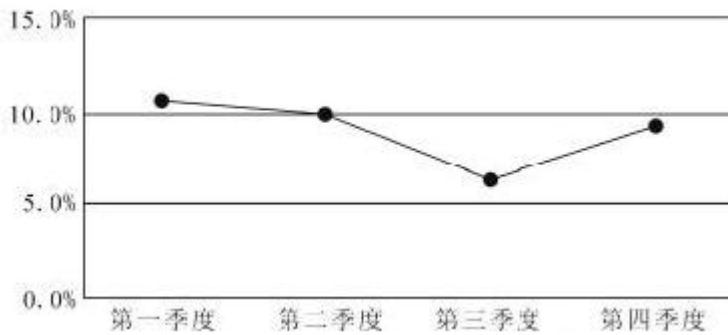
【答案】A

117、下列选项中，符合我国 2008 年全年生产总值增长情况的是

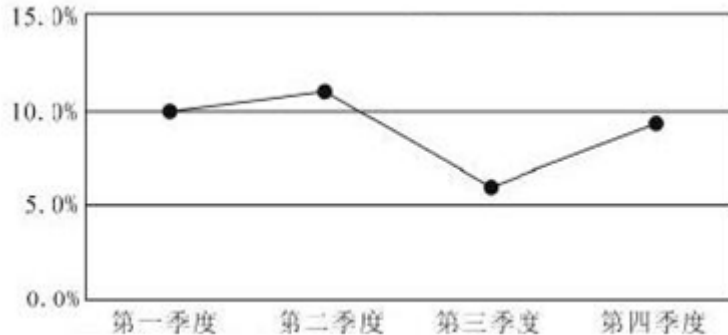
A.



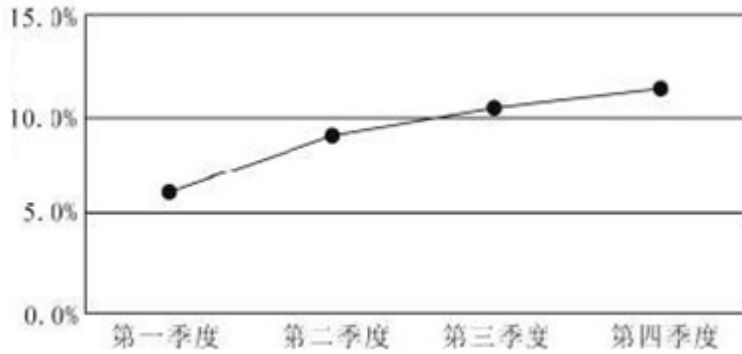
B.



C.



D.



【答案】A

118、下列选项中，正确的有

- A. 2007年，我国城镇固定资产投资中第一产业投资额高于2000亿元
- B. 2007年，我国城镇固定资产投资中第二产业投资额低于第三产业投资额
- C. 2007年，我国城镇固定资产投资额低于100000亿元
- D. 2007年，我国城镇固定资产投资额比2008年少50000余亿元

【答案】B

119、2007年，城市消费品零售额与县及县级以下消费品零售额相比，增速

- A. 相同
- B. 略快
- C. 略慢
- D. 无法比较

【答案】B

120、下列说法中，错误的是

- A. 2007年，批发和零售业与住宿和餐饮业消费品零售额的差值比2008年小
- B. 2008年，分地区来看，中部地区比西部和东部地区的经济发展快
- C. 2008年，国内销售增长较快，城乡消费旺盛
- D. 2008年，我国第一、二、三产业发展均衡

【答案】D

二、根据下列统计资料回答121—125题

2008年居民消费价格比上年上涨5.9%，其中食品价格上涨14.3%。固定资产投资价格上涨8.9%。工业品出厂价格上涨6.9%，其中生产资料价格上涨7.7%，生活资料价格上涨4.1%。原材料、燃料、动力购进价格上涨10.5%。农产品生产价格上涨14.1%。农业生产资料价格上涨20.3%。70个大中城市房屋销售价格上涨6.5%，其中新建住宅价格上涨7.1%，二手住宅价格上涨6.2%；房屋租赁价格上涨1.4%。

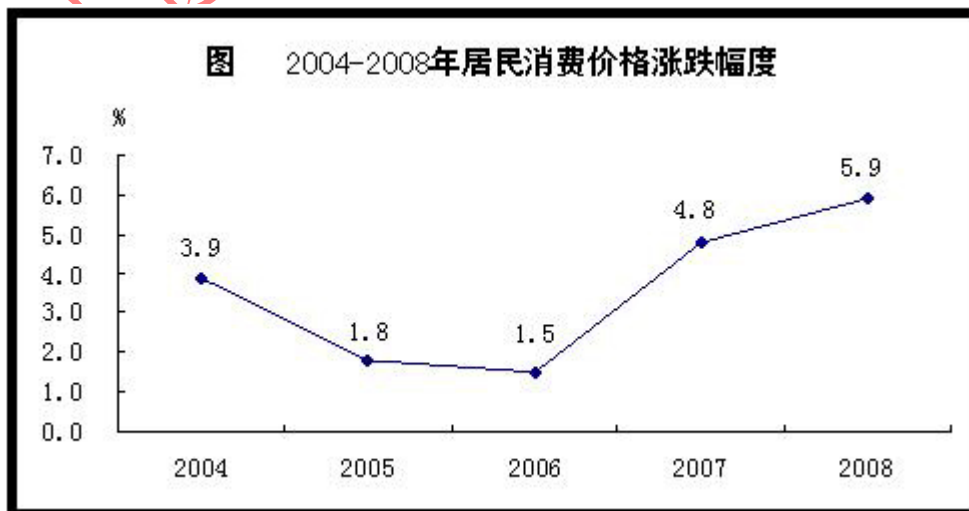


表 2007 年居民消费价格比上年涨跌幅度

指标	全国		
		城市	农村
居民消费价格	5.9	5.6	6.5
食品	14.3	14.5	14.0
其中：粮食	7.0	7.2	6.7
肉禽及其制品	21.7	22.6	20.0
油脂	25.4	24.9	25.9
鲜蛋	3.7	3.8	3.6
鲜菜	10.7	10.5	11.3
鲜果	9.0	8.9	9.3
烟酒及用品	2.9	3.1	2.6
衣着	-1.5	-1.8	-0.6
家庭设备用品及服务	2.8	3.0	2.4
医疗保健及个人用品	2.9	2.8	3.2
交通和通信	-0.9	-1.6	0.7
娱乐教育文化用品及服务	-0.7	-0.9	-0.1
居住	5.5	4.3	8.2

121. 2004—2008 年，居民消费价格平均涨幅为  
 A. 3.48%    B. 3.58%    C. 3.83%    D. 4.47%

【答案】B

122. 2008 年城市居民消费涨幅最小的为  
 A. 衣着    B. 医疗保健及个人  
 C. 家庭设备用品及服务    D. 交通和通信

【答案】B

123. 2008 年，下列价格指数中涨幅最大的是  
 A. 固定资产投资价格    B. 农产品生产价格  
 C. 大中城市房屋销售价格    D. 农业生产资料价格

【答案】D

124. 下列说法中，正确的是  
 A. 2008 年，我国所有消费品价格均呈上涨趋势  
 B. 2008 年，农村居民交通和通信价格涨势低于城市  
 C. 2008 年，居民消费价格中食品价格涨幅最大  
 D. 2008 年，全国衣着消费额低于 2007 年

【答案】C

125. 下列说法中，不正确的是  
 A. 农村居民食品价格涨幅低于城市  
 B. 与城市相比，农村衣着类消费品价格降幅较小  
 C. 与城市相比，农村交通和通信费需求更大  
 D. 城市和农村鲜蛋价格涨幅趋同

【答案】C

三、根据下列材料回答 126-130 题



全社会客运运输量 2008 年 9 月

指标	单位	9 月	比上年同月 增长%	1-9 月	比上年同期 增长%
客运量:					
铁路	亿人	1.25	12.8	11.20	11.8
公路	亿人	18.47	11.4	163.06	7.4
水运	亿人	0.20	-2.1	1.73	-2.7
民航	亿人	0.16	0.7	1.41	1.7
旅客周转量:					
铁路	亿人公里	656.67	9.3	6073.82	7.2
公路	亿人公里	1067.85	12.4	9316.19	9.4
水运	亿人公里	6.46	0.2	52.79	-6.4
民航	亿人公里	240.96	-2.5	2113.91	1.5

126. 2008 年 1-9 月, 公路在旅客周转量比重比铁路多多少个百分点?

- A. 2.2      B.3.1      C.18.5      D. 20.9

【答案】C

127. 2007 年 1-8 月, 水运旅客周转量约为多少亿人公里?

- A. 1.5      B.3.2      C.4.3      D.5.0

【答案】D

128. 2008 年 1-8 月, 公路客运量比上年同期增长

- A. 6.9%      B.7.4%      C.7.9%      D.11.7%

【答案】A

129. 2007 年 9 月民航旅客周转量在当年 1-9 月民航旅客周转量中所占比例约:

- A. 11.4%      B.11.9%      C.60%      D.88.1%

【答案】B

130. 与上年同期相比, 2008 年 1-9 月增长速度最快的是:

- A. 公路客运量      B. 公路旅客周转量  
C. 铁路客运量      D. 铁路旅客周转量

【答案】C

四、根据下列统计资料回答 131-135

部分国家研究与发展经费支出总额及国内生产总值 单位: 亿美元

国家	研究与发展经费			国内生产总值(GDP)		
	2001	2003	2005	2001	2003	2005
中国	125.95	186.01	298.98	13248	16410	22343
加拿大	146.78	173.71	224.25	7154	8661	11315
芬兰	41.33	56.49	68.07	1252	1647	1957
法国	294.29	390.16	452.62	13397	17999	21266
德国	465.34	615.54	700.84	18910	24395	27869
日本	1278.94	1342.80		40877	42313	45590
韩国	124.79	160.02	235.87	4819	6081	7876
西班牙	55.72	92.69	125.60	6091	8832	11260
英国	268.09	323.79	-	14352	18128	22263
美国	2778.20	2924.37	-	100789	109080	123979
以色列	56.50	51.37	61.07	1186	1151	1298
俄罗斯	36.09	55.34	81.59	3066	4315	7636

131. 2001年-2005年, 西班牙研究与发经费的年平均增长率为

- A. 22.5%      B.50.1%      C.122.5%      D. 150.1%

【答案】A

132. 表中所列国家中, 2003年研究与发展经费最多的国家是

- A. 日本      B.新加坡      C.美国      D.德国

【答案】C

133. 2005年中国研究与发展经费占GDP得比重, 比2001年提高了约多少个百分点?

- A. 0.9      B.3.8      C.0.4      D.1.3

【答案】C

134. 2003年, 加拿大GDP在表中所列国家中的排名为

- A. 第六      B.第七      C.第八      D.第九

【答案】C

135. 2001年, 研究与发展经费占本国GDP的比重最高的国家是

- A. 西班牙      B.以色列      C.美国      D.芬兰

【答案】B

三、根据以下材料, 回答121-125题:

2008年1—6月浙江省城乡居民收支数据表

城镇居民收支(元)	1—6月	同比±%
人均可支配收入	12425	10.6
人均消费性支出	7618	10.0
食品	2861	15.2
衣着	848	8.7
居住	647	22.8
家庭设备用品服务	379	16.1
医疗保健	489	14.9
交通和通讯	1228	0.6
娱乐教育文化	902	x
其他商品和服务	264	14.1

农村居民收支 (元)	1—6 月	同比±%
农村居民人均现金收入	6100	13.6
人均消费性支出	3451	16.5
食品	1327	18.3
衣着	266	8.6
居住	697	48.5
家庭设备用品	185	16.0
交通和通讯	386	-3.2
文化教育娱乐	274	0.2
医疗保健	239	8.3
其他商品和服务	77	2.9

121. 2008 年 1-6 月,城镇居民 8 类人均消费性支出占人均消费性总支出的比重超出 10%的有:

- A. 2 个      B. 3 个      C. 4 个      D. 5 个

【答案】C

122. 2007 年 1-6 月,农村居民 8 类消费性支出中,第三高的是:

- A. 居住      B. 交通和通讯      C. 文化教育、娱乐      D. 衣着

【答案】B

123. 已知 2007 年 1-6 月,城镇居民用于“娱乐教育文化”的人均消费性支出为 927 元,则上表中“X”的值约为:

- A. -2.7      B. 2.7      C. -2.8      D. 2.8

【答案】A

124. 2007 年 1-6 月,城镇居民人均可支配收入是农村居民人均现金收入的:

- A. 1.82 倍      B. 1.89 倍      C. 2.04 倍      D. 2.09 倍

【答案】D

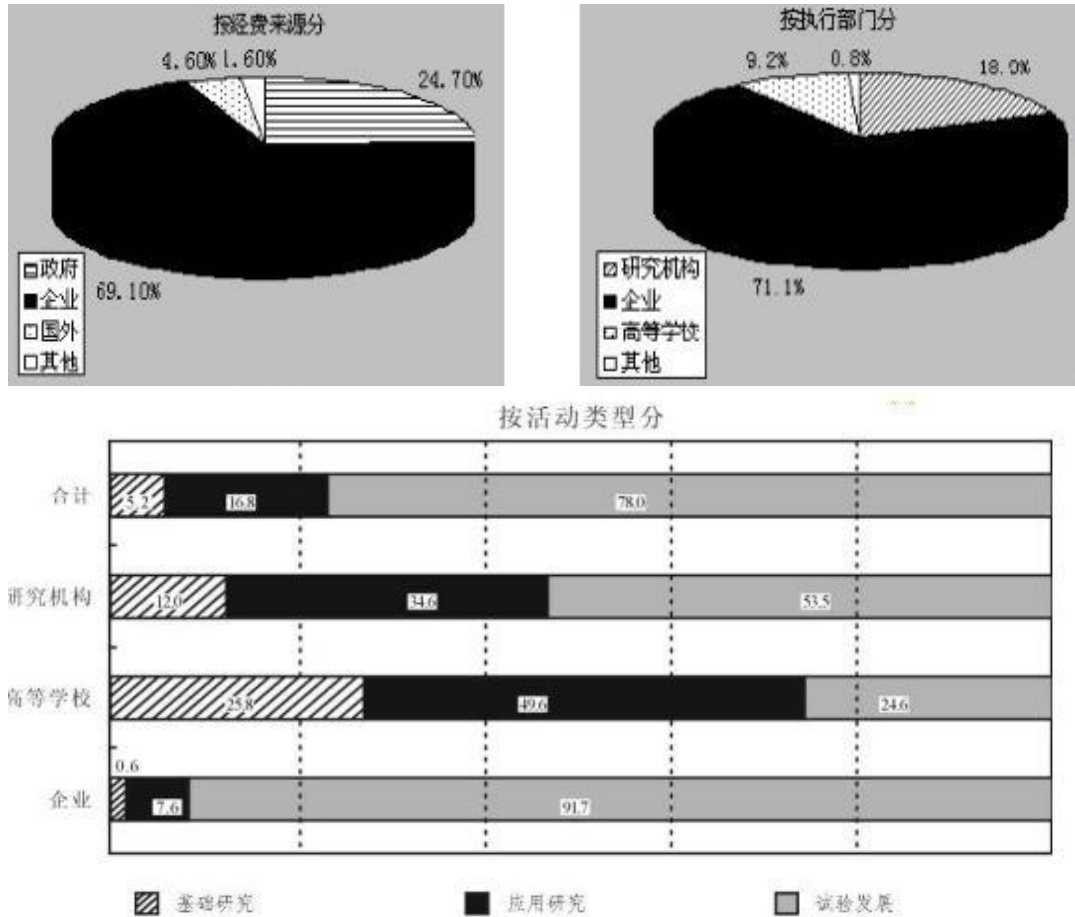
125. 下列说法中,不正确的一项是:

- A. 2008 年 1-6 月,城镇居民人均消费性支出比农村居民人均消费性支出的 2 倍还多  
B. 2007 年 1-6 月,城镇居民用于“衣着”的人均消费性支出比农村居民用于“衣着”的人均消费性支出的 3 倍还多  
C. 2007 年 1-6 月,农村居民用于“交通和通讯”及“医疗保健”的人均消费性支出之和不足 600 元  
D. 2008 年 1-6 月,城镇居民和农村居民用于“食品”的人均消费性支出都超过各自人均消费性支出的三分之一

【答案】C

四. 根据以下材料, 回答 126--130 题:

我国某年度科学研究与试验发展经费支出分类示意图



注：我国该年度科学研究与试验发展经费支出总额为3003.1亿元。

- 126.按执行部门分，该年度我国企业部分的“科学研究与试验发展经费支出”约为：  
 A.567.6 亿元    B.2135.2 亿元    C.2075.1 亿元    D.2353.2 亿元  
**【答案】B**
- 127.按经费来源分，该年度我国企业部分的“科学研究与试验发展经费支出”约比政府部分：  
 A. 多 44.4%    B.少 44.4%    C.多 1333.4 亿元    D.多 1567.6 亿元  
**【答案】C**
- 128.该年度我国高等学校用于应用研究部分的“科学研究与试验发展经费支出”约为：  
 A. 95.6 亿元    B.137.0 元    C.196.4 亿元    D.1489.5 亿元  
**【答案】B**
- 129.该年度我国研究机构用了基础研究部分的“科学研究与试验发展经费支出”约为企业用于应用研究部分的：  
 A. 1.6 倍    B.1/30    C.13%    D.42%  
**【答案】D**
- 130.该年度我国企业的“科学研究与试验发展经费支出”中，用于应用研究的约比用于基础研究的多：  
 A.149.5 亿元    B.210.2 亿元    C.135.6 亿元    D.242.1 亿元  
**【答案】A**

根据下列材料回答 116—120 题:

以下是反映我国人才资源现状的一些数据: 在高层次人才方面, 两院院士由刚建院的 233 人和 96 人, 发展到 2003 年的 688 人和 663 人。在教育科技人才方面, 2003 年中国科技人员总数达 320 多万人, 比 1993 年增长近 1/3。从我国专业技术人才队伍的学历来看, 从 1999 年到 2003 年本科人才的比例由 18.1% 上升到 24.2%。从全国的国有企事业单位专业技术人员的变动来看, 1990 年国有企事业单位总人数为 9443 万人, 到 2003 年降到 5575 万人, 但是, 专业技术人员总数却由 1080.9 万人增长到 2174 万人。以平均每万名职工中拥有专业技术人员的比例来看, 1990 年为 1144.7 人, 到了 2004 年增为 3899.5 人。

在全国 29 个专业技术系列中, 高级职称以上的高层次人才总计为 157.3 万人, 仅占人才总量的 5.5%。

目前, 我国企业专业技术人员比例偏低, 仅占 35%, 远低于美、英德 80.8% 和 61.4%。我国高级技工占职工总数的比重仅占 5%, 西方发达国家这一比例超过 35%。

116. 到 2003 年, 我国两院院士人数已经相当于建院初期的

- A. 4.1 倍
- B. 3.9 倍
- C. 3.7 倍
- D. 3.5 倍

【答案】.A.

117. 我国 1993 年科技人员总数约为

- A. 185 万人
- B. 218 万人
- C. 232 万人
- D. 240 万人

【答案】.D.

118.我国平均每个专业技术系列中拥有的高级职称以上的高层次人才约为

- A.4.66 万人
- B.5.42 万人
- C.5.71 万人
- D.6.13 万人

【答案】.B.

119.2003 年与 1990 年相比，国有企事业单位中的专业技术人员占国有企事业单位职工总数的比例上升了

- A.22.6%
- B.25.3%
- C.27.5%
- D.28.8%

【答案】C.

120.以下判断不正确的是

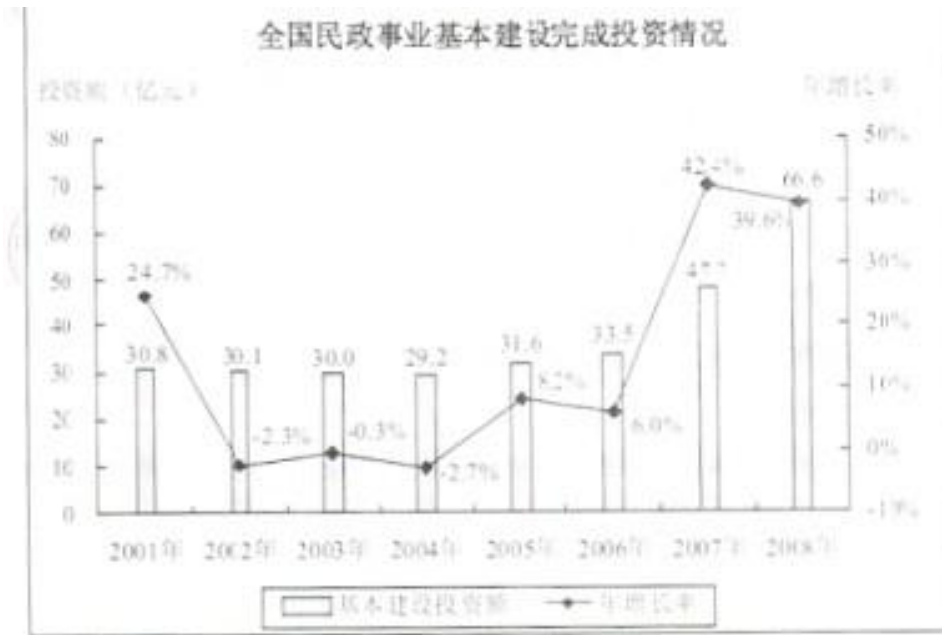
- A.每万名职工拥有的专业技术人员 10 多年间增长了 2 倍多
- B.我国本科学历人才占专业技术人才队伍的比重接近四分之一
- C.我国高级技工占职工总数的比重仅为西方发达国家的七分之一
- D.国有企事业单位中专业技术人员数量变化趋势与职工总数变化成正相关

【答案】D

## 10 湖南

一、根据所给图表，文字资料回答 81~85 题。

2008 年，全国民政事业基本建设完成投资总额为 66.6 亿元，施工项目为 3906 个，完成投资总额比上年增长 39.6%。其中国家投资 26.6 亿元，比上年增长 83.4%。在投资总额中，用于优抚安置事业单位投资为 9.6 亿元，比上年增长 88.2%；社区服务单位投资为 5.2 亿元，比上年增长 52.9%；收养性单位投资为 30.4 亿元，比上年增长 33.9%；殡仪服务单位投资为 11.3 亿元，比上年增长 21.3%；救助类单位投资为 2.6 亿元，比上年增长 100%，其他事业单位投资为 7.5 亿元，比上年增长 27.1%。



【81】 2008年民政事业基本建设投资总额中，国家投资所占比重约为：  
A.30% B.35% C.40% D.45%

【答案】C

【82】 2003~2006年，民政事业基本建设投资额年增长率最高的是

- A.2003年
- B.2004年
- C.2005年
- D.2006年

【答案】C

【83】 2000~2008年，全国民政事业基本建设累计完成投资总额为多少亿元？

- A.299.5
- B.307.1
- C.324.2
- D.340.4

【答案】C

【84】 根据2007年民政事业基本建设投资金额从高到低排序，以下正确的是

- A.优抚安置事业单位、其他事业单位、救助类单位
- B.收养性单位、其他事业单位、优抚安置事业单位
- C.收养性单位、救助类单位、其他事业单位
- D.优抚安置事业单位、救助类单位、收养性单位

【答案】B

【85】 下列说法与资料相符的是

- A.2006~2008年，全国民政事业基本建设完成投资总额超过之前5年的投资总额
- B.2007年，收养性单位投资额占全国民政事业基本建设完成投资总额的一半以上
- C.全国民政事业基本建设完成投资总额2005年的年增长率高于2004~2008年的年增长率
- D.2008年，平均每个民政事业基本建设投资项目的完成投资额不到200万元

【答案】D

二、根据下表，回答86-90题：

世界部分城市气候状况

**世界部分城市气候状况**

城市	国家	地理纬度	海拔 (米)	年均 温度 (度)	最冷月	最暖月	年均 降水 (mm)	最湿月	最干月	日照 最长月 平均日照 (小时)	日照 最短月 平均日照 (小时)
					平均 温度 (度)	平均 温度 (度)		平均 降水 (mm)	平均 降水 (mm)		
北京	中国	39°55' N	37	11.8	-4.3/1	25.9/7	578	182/8	2/12	9.2/5	6.1/12
香港	中国	22°20' N	33	22.9	15.8/3	28.8/7	2215	391/8	23/1	7.5/7	3.1/3
鄂木斯克	俄罗斯	55°00' N	85	1.4	-17.3/1	19.7/7	391	61/7	14/2,3	10.4/7	2.0/12
海参崴	俄罗斯	43°10' N	28	4.2	-13.1/1	19.5/8	788	149/8	15/1	7.0/3	3.9/7
东京	日本	35°40' N	6	15.6	5.2/1	27.1/8	1466	185/5	45/1	5.9/5	3.7/9
新德里	印度	28°40' N	216	25.1	14.3/1	33.4/6	790	237/7	9/11,12	7.3/9	5.4/7
加尔各答	印度	22°35' N	10	26.9	20.1/1	30.7/5	1800	411/7	11/1	7.9/4	3.0/7
孟买	印度	18°55' N	11	27.5	24.5/1	30.2/5	2168	682/7	0/1,3	9.6/5	2.4/7
马尼拉	菲律宾	14°35' N	16	27.4	25.6/1	29.5/5	1875	398/8	3/2	8.6/4	4.2/8
胡志明市	越南	10°45' N	10	27.2	25.7/1	29.0/4	1861	303/9	4/2	7.5/2	4.4/7
新加坡	新加坡	1°20' N	17	26.7	25.7/12	27.5/5	2150	304/12	140/6	6.2/2	4.3/11
雅加达	印度尼西亚	6°10' S	8	26.2	25.6/2	27.3/8	1802	336/1	46/8	7.6/8	4.5/1

注：第6、7、9、10、11、12列中温度、降水和日照指标之后的数字表示特定的月份。

注：第6、7、9、10、11、12列中温度、降水和日照指标之后的数字表示特定的月份

【86】 表中最靠近赤道的四个城市，其年均降水量的均值为

- A.1747 毫米
- B.1778 毫米
- C.1922 毫米
- D.2013.5 毫米

【答案】C

【87】 表中最冷月与最暖月温差在 20 度以上的城市有多少个？

- A.2
- B.3
- C.4
- D.5

【答案】C

【88】 表中纬度第二高的城市，其日照最长月的平均日照时间约为日照最短月平均日照时间的几倍？

- A.1.5 倍
- B.1.8 倍
- C.2.0 倍
- D.2.5 倍

【答案】B

【89】 表中海拔高度位居第三的城市，其最湿月平均降水量约占全年平均降水量的：

- A.15.6%
- B.17.7%
- C.18.9%



D.31.5%

【答案】D

【90】 下列说法与资料相符的是:

- A.新加坡月降水量比雅加达多三十多毫米
- B.表中的印度城市,其纬度越高,年均温度越低
- C.海参崴在日照最短月中的日照时长不足 120 小时
- D.表中海拔高于 30 米的所有城市年均温度均低于 25 度

【答案】.B.

三、根据以下资料,回答 91-95 题。

2008 年底,我国网民数从 1997 年的 62 万增加到 2.98 亿,居世界第 2 位。其中宽带网民数达到 2.7 亿,手机网民数达到 1.2 亿。互联网普及率达到 22.6%,超过全球平均水平。

2008 年底,我国互联网的国际出口带宽由 1997 年的 25.4Mbps 增长到 640286.7Mbps,11 年间增长了 25207 倍。2008 年底,我国 IPv4 地址数已从 2001 年底的 0.2 亿个增加到 1.8 亿个,全球排名由第 9 位上升到第 3 位;域名总数达到 1682.6 万个。其中国家 CN 域名在 2007 年平均每天增长 2 万个,2008 年底已达到 1357.2 万个,网站数由 2000 年的 265 万个增长到 2008 年的 287.8 万个,年均增长 34.7%。2002 年,我国的网页数为 1.6 亿个,2008 年网页数达到 160.9 亿个。

2005 年,我国电子商务交易额达到 12992 亿元人民币,相当于国内生产总值的 7.1%。到 2008 年底,我国网络购物用户人数达到 7400 万,占网民总数的 24.8%。2008 年底,我国使用网络媒体的网民比例达到 78.5%,使用电子邮件的网民比例达到 56.8%,使用网上教育的网民比例达到 16.5%拥有博客的网民比例达到 54.3%。

【91】 2008 年底,我国宽带网民数约占网民总人数的

- A.88.3%
- B.89.7%
- C.90.6%
- D.92.1%

【答案】C

【92】 2008 年底,我国平均每万网民拥有的国际出口带宽约是 1997 年的多少倍?

- A.11.5
- B.21.5
- C.52.4
- D.157.9

【答案】.B

【93】 下列说法与资料相符的是:

- A.2005 年底,我国国内生产总值超过 18 万亿元人民币
- B.2008 年底,全球互联网普及率的平均水平不低于 25%
- C.2009 年底,我国平均每网站拥有网页数超过 6000 个
- D.2007 年初,我国国家 CN 域名数已达到 627.2 万个

【答案】A.

【94】 若我国手机网民全部使用网络媒体,则 2008 年底,非手机用户使用网络媒体的比例为:

- A.36%
- B.50%
- C.64%
- D.78%

【答案】C

【95】 下列说法与资料相符的是

- A.2008 年底,我国使用网络购物用户数已超过手机网民数
- B.2008 年底,我国使用网络媒体的人数比使用电子邮件的多 0.65 亿
- C.2008 年底,我国的宽带网民中超过一半的人拥有博客
- D.2001~2008 年,我国 IPv4 地址数几乎每年翻一番

【答案】B.