

根据统计资料回答问题。

某县2005年三次产业统计表

	产业活动单位点数		从业人数		实收资本		增加值	
	绝对值	比重%	绝对值	比重%	绝对值	比重%	绝对值	比重%
总计	2949	100	70702	100	1297539	100	337043	100
第一产业	147	4.98	1236	1.75	1570	0.12	97788	29.01
第二产业	478	16.21	45199	63.93	983893	75.83	122397	36.32
工业	444	15.06	32172	45.50	731726	56.39	89970	26.70
建筑业	34	1.15	13027	18.43	252167	19.43	32427	9.62
第三产业	2324	78.81	24267	34.32	312076	24.05	116858	34.67
交通运输业	50	1.70	2729	3.86	89726	6.92	18788	5.57
批零餐饮业	232	7.87	2075	2.93	82543	6.36	38201	11.33
社会服务业	61	2.07	391	0.55	22096	1.70	11035	3.27

91、从从业人数上看，工业企业在该县第二产业中的比重为( )。

- A、15.06% B、45.50% C、71.18% D、92.89%

[答案]C

92、2004年，该县的第三产业的实收资本是( )。

- A、96049.6万元 B、19521.8万元 C、86149.6万元 D、96.05亿元

[答案]B

93、该县2005年第三产业实收资本增长率约为( )。

- A、21% B、37% C、46% D、60%

[答案]D

94、从实收资本的角度，下列选项中，表述正确的一项是( )。

- A、2005年，交通运输业是该县第三产业中的优势产业  
 B、2005年，交通运输业在该县第三产业中所占比例比2004年有所上升  
 C、2005年，批零餐饮业在该县第三产业中所占比例比2004年有所上升  
 D、2005年，社会服务业在该县第三产业中所占比例比2004年有所下降

[答案]C

95、下列选项中，表达错误的是( )。

- A、2005年，该县三次产业中人均实收资本最多的是第二产业  
 B、与第三产业中的其他两个行业相比，交通运输业的人均实收资本最多  
 C、交通运输业单位的平均规模大于社会服务业  
 D、社会服务业人均资本增长额最大、

[答案]B

二、根据统计资料回答问题。

某市国外主要客源国游客人数统计表

客源国名称	2005年招待人次	所占国外总游客比例%	2004年招待人次	所占国外总游客比例%
日本	26159	31.78	20938	30
美国	9021	10.96	10650	15.26
新加坡	4247	5.16	2631	3.77
英国	3589	4.36	2150	3.08
马来西亚	3564	4.33	2031	2.91
加拿大	2774	3.37	1703	2.44
德国	2362	2.87	2010	2.88
俄罗斯	2041	2.48	1277	1.83
韩国	1729	2.1	1368	1.96
澳大利亚	1622	1.97	1298	1.86
法国	1523	1.85	1389	1.99
瑞士	1432	1.74	1577	2.26
合计	60063	72.97	49022	70.24

96、2005年与2004年相比,该市主要客源国游客人数上升了( )。

- A、2.73%    B、18.4%    C、22.5%    D、81.6%

[答案]C

97、2005年与2004年相比,该市的国外游客总人次比2004年增加了( )。

- A、11041    B、12520    C、15703    D、18520

[答案]C

98、下列选项中说法正确的一项是( )。

- A、2005年与2004年相比,各国到该市旅游人数均有所上升  
 B、2005年与2004年相比,各国游客在国外总游客中所占比例均有所上升  
 C、2005年与2004年相比,该市主要客源国中亚洲的游客比例有所增加  
 D、2005年与2004年相比,该市国内游客所占比例有所增加

[答案]C

99、下列选项中,说法不正确的一项是( )。

- A、亚洲国家游客是该市国外游客的主要来源  
 B、主要客源国中,三个国家的游客人次增长幅度小于该市国外游客总人次的增长幅度  
 C、在主要客源国中,除出现游客负增长的国家外,新加坡游客增长幅度最小  
 D、若各国游客的增长幅度不变,则2006年德国游客人数将少于俄罗斯游客人数

[答案]B或C

100、到该市旅游的主要客源国中,2005年游客人次增长幅度最大的是( )。

- A、马来西亚    B、英国    C、俄罗斯    D、日本

[答案]A

### 三、根据下列文字材料回答问题。

2005年在城镇投资中,国有及国有控股投资40047亿元,比上年增长17.5%。第一产业投资823亿元,增长27.5%;第二产业投资31598亿元,增长38.4%。第三产业投资42675亿元,增长20.0%。分行业看,煤炭开采及洗选业投资比上年增长65.6%;电力、热力的生产与供应业投资增长33.7%;石油和天然气开采业投资增长29.7%;铁路运输业投资增长45.7%;交通运输设备制造业投资增长51.1%;纺织业投资增长38.0%。教育投资增长8.4%;卫生投资增长28.9%。

2005年全年研究与开发经费支出2367亿元,比上年增长20.4%,占国内生产总值的1.30%,

其中基础研究经费 135 亿。2005 年末国有企事业单位共有各类专业技术人员 2720 万人，全年国家安排了 288 项科技攻关计划课题和 911 项“863”计划课题，新建国家工程研究中心 19 个。新安排国家重点实验室改造项目 16 项，累计达到 143 项，国家认定企业技术中心达到 361 家。全年共取得省部级以上科技成果 3.6 万项。全年受理国内外专利申请 47.6 万件，其中国内申请 383 万件，占 80.5%；受理国内外发明专利申请 17.3 万件，其中国内申请 9.3 万件，占 53.8%。全年共签订技术合同 26.5 万项，技术合同成交金额 1510 亿元，比上年增长 13.2%。

101、下列各行业，2005 年投资增长最大的是：

- A、纺织业 B、铁路运输业 C、电力、热力的生产与供应业 D、交通运输设备制造业  
[答案]D

102、根据材料中的数据，2005 年第三产业投资占三大产业投资总额比重约为：

- A、40% B、50% C、60% D、70%

[答案]C

103、2005 年基础研究经费占全年研究与开发经费总额的：

- A、5.7% B、6.8% C、7.3% D、9.9%

[答案]A

104、2005 年受理国外发明专利申请：

- A、8 万件 B、9.3 万件 C、23.4 万件 D、38.3 万件

[答案]A

105、根据上述资料，以下说法正确的是：

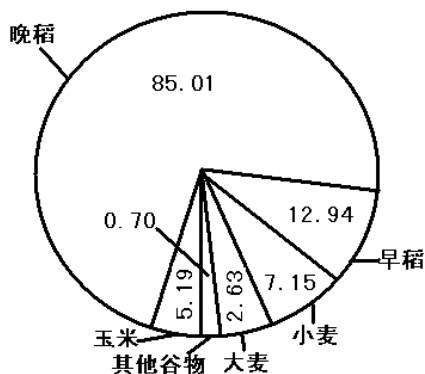
- A、2005 年所签订的技术合同每项平均成交额约为 57 万  
B、2005 年，城镇投资增加的总额中大部分来自国有及国有控股投资  
C、与上年相比，2005 年第二产业投资增加的总、额低于第三产业  
D、2005 年全年受理的国内专利申请中，绝大部分为发明专利申请

[答案]A

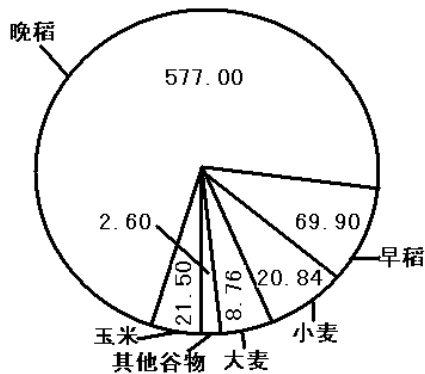
**四、根据下列资料回答问题。**

2003 年，浙江省谷物类粮食种植面积为 113.62 万公顷(注：1 公顷=15 亩)，比上年减少 22.79 万公顷；谷物类粮食的总产量达 700.60 万吨。比上年减少 141.68 万吨。

2003 年谷物类粮食种植面积结构图  
单位：万公顷



2003 年谷物类粮食总产量结构图  
单位：万吨



106、2003 年浙江省谷物类粮食的总产量约比上年减少

- A、16.82% B、20.22% C、23.27% D、25.35%

[答案]A

107、2003 年浙江省谷物类粮食的平均亩产量约是多少

- A、411 公斤 B、424 公斤 C、432 公斤

[答案]D

108、以下粮食作物中，2 叨 3 年的亩产量最高的是：

A、早稻 B、晚稻 C、小麦

[答案]B

109、2003 年亩产量最低的谷物类粮食的种植面积是：

A、2.31% B、4.57% C、6.29%

[答案]C

110、以下关于 2 叨 3 年谷物类粮食的生产情况的说法

A、晚稻的产量大于谷物类粮食总产量的 4 巧

B、产量最接近的两种粮食作物的种植总面积约为 185

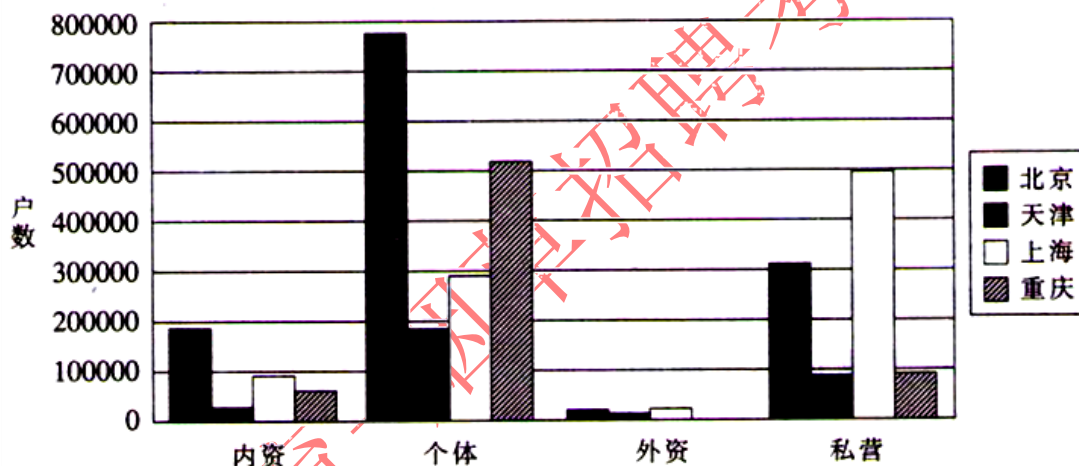
C、“其他谷物”的种植面积和产量都是最小的

D、大麦的亩产量不足 210 公斤

[答案]D

根据下图回答第 81-85 题：

四直辖市市场主体登记数据对比图(截至 2007 年上半年)



81·截至 2007 年上半年末，四直辖市市场主体登记数据中市场主体户数最少的是：

A 内资企业 B·个体企业 C·外资企业 D·私营企业

[答案]C

82·截至 2007 年上半年末，在所登记的私营企业中上海的私营企业户数比重庆的私营企业户数大约多：

A·300000 户 B·400000 户 C·500000 户 D·600000 户

[答案]B

83·从上图可知，个体企业户数最多的直辖市是：

A·北京市 B·天津市 C·上海市 D·重庆市

[答案]A

84·截至 2007 年上半年末，在所登记的内资企业中户数最少的直辖市是：

A·北京市 B·天津市 C·上海市 D·重庆市

[答案]B

85·截至 2007 年上半年末，在所登记的个体企业中户数排在第二位的直辖市是：

A·北京市 B·天津市 C·上海市 D·重庆市

[答案]D